

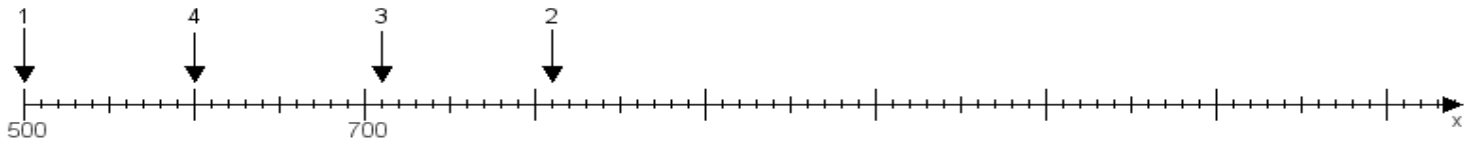
Name:

Klasse:

Datum:

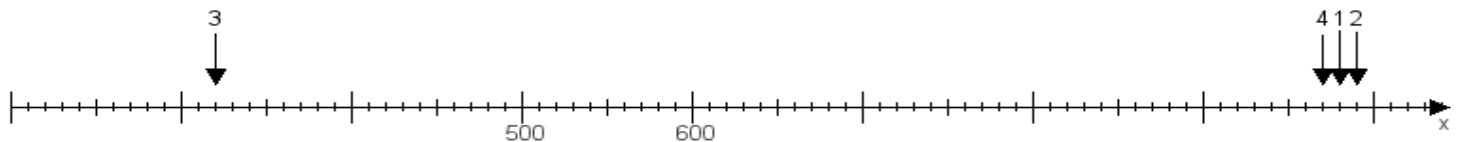
**Aufgabe 1:**

Ermittle die Werte von den Punkten 1 bis 4.



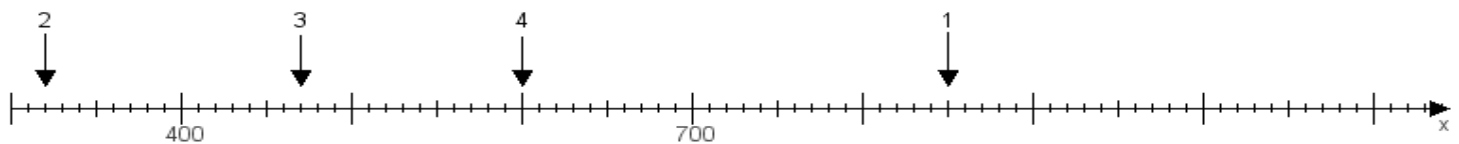
**Aufgabe 2:**

Ermittle die Werte von den Punkten 1 bis 4.



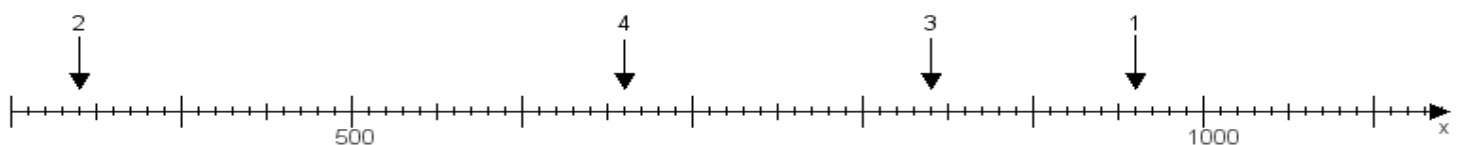
**Aufgabe 3:**

Ermittle die Werte von den Punkten 1 bis 4.



**Aufgabe 4:**

Ermittle die Werte von den Punkten 1 bis 4.



[www.das-bastelteam.de](http://www.das-bastelteam.de) -> Zahlenstrahl mit 4 Punkten. Blatt Nr.:349  
Lösungen:

Aufgabe 1: Punkt 1 = 500, Punkt 2 = 810, Punkt 3 = 710, Punkt 4 = 600,

Aufgabe 2: Punkt 1 = 980, Punkt 2 = 990, Punkt 3 = 320, Punkt 4 = 970,

Aufgabe 3: Punkt 1 = 850, Punkt 2 = 320, Punkt 3 = 470, Punkt 4 = 600,

Aufgabe 4: Punkt 1 = 960, Punkt 2 = 340, Punkt 3 = 840, Punkt 4 = 660,