

Im Zahlenbereich bis max. 1000.

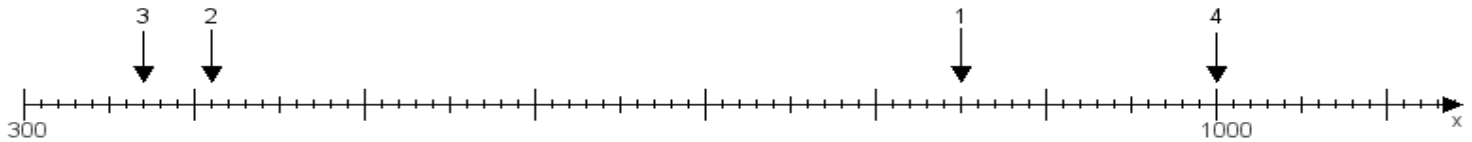
Name:

Klasse:

Datum:

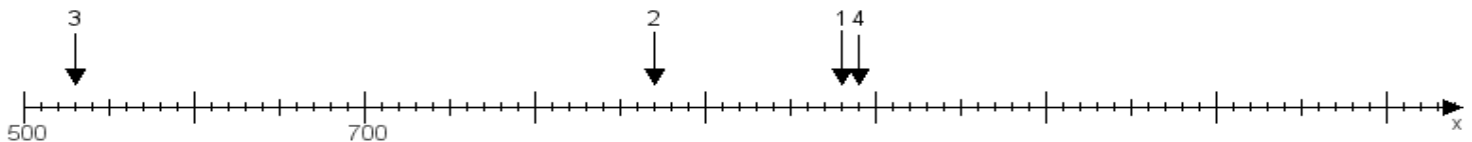
Aufgabe 1:

Ermittle die Werte von den Punkten 1 bis 4.



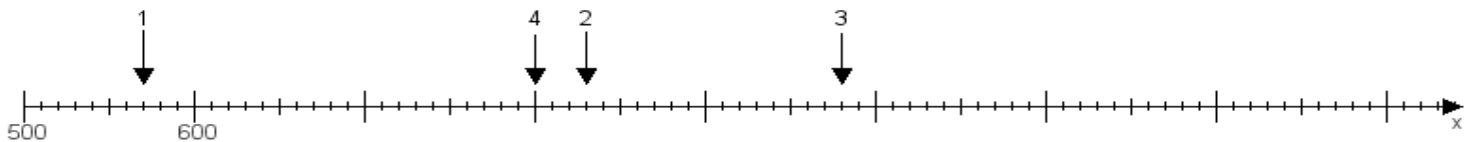
Aufgabe 2:

Ermittle die Werte von den Punkten 1 bis 4.



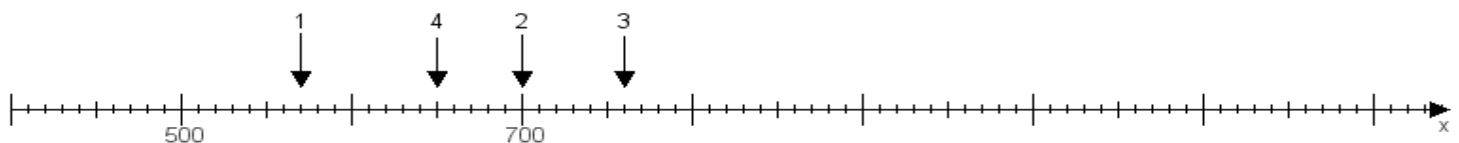
Aufgabe 3:

Ermittle die Werte von den Punkten 1 bis 4.



Aufgabe 4:

Ermittle die Werte von den Punkten 1 bis 4.



www.das-bastelteam.de -> Zahlenstrahl mit 4 Punkten. Blatt Nr.:346
Lösungen:

Aufgabe 1: Punkt 1 = 850, Punkt 2 = 410, Punkt 3 = 370, Punkt 4 = 1000,

Aufgabe 2: Punkt 1 = 980, Punkt 2 = 870, Punkt 3 = 530, Punkt 4 = 990,

Aufgabe 3: Punkt 1 = 570, Punkt 2 = 830, Punkt 3 = 980, Punkt 4 = 800,

Aufgabe 4: Punkt 1 = 570, Punkt 2 = 700, Punkt 3 = 760, Punkt 4 = 650,