

Im Zahlenbereich bis max. 1000.

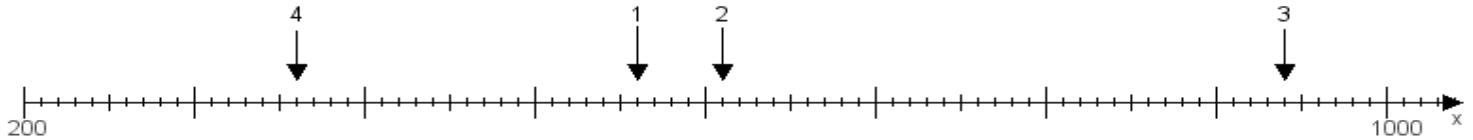
Name:

Klasse:

Datum:

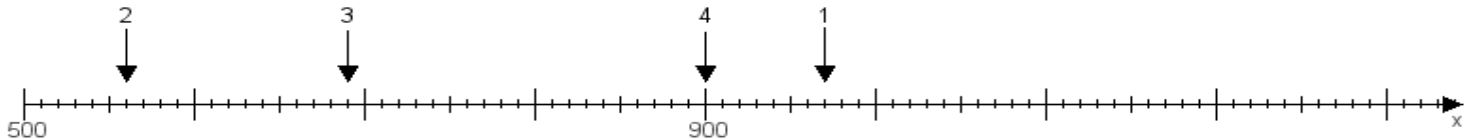
Aufgabe 1:

Ermittle die Werte von den Punkten 1 bis 4.



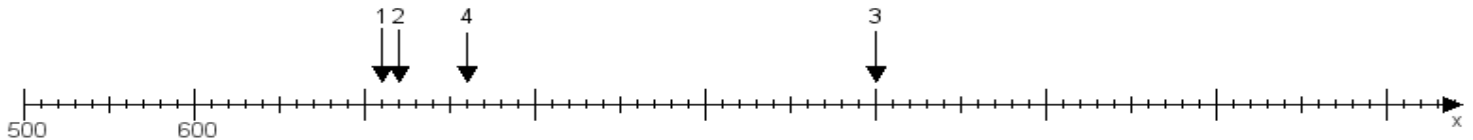
Aufgabe 2:

Ermittle die Werte von den Punkten 1 bis 4.



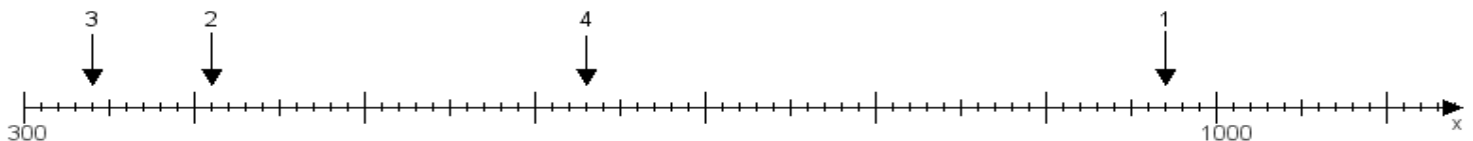
Aufgabe 3:

Ermittle die Werte von den Punkten 1 bis 4.



Aufgabe 4:

Ermittle die Werte von den Punkten 1 bis 4.



www.das-bastelteam.de -> Zahlenstrahl mit 4 Punkten. Blatt Nr.:344
Lösungen:

Aufgabe 1: Punkt 1 = 560, Punkt 2 = 610, Punkt 3 = 940, Punkt 4 = 360,

Aufgabe 2: Punkt 1 = 970, Punkt 2 = 560, Punkt 3 = 690, Punkt 4 = 900,

Aufgabe 3: Punkt 1 = 710, Punkt 2 = 720, Punkt 3 = 1000, Punkt 4 = 760,

Aufgabe 4: Punkt 1 = 970, Punkt 2 = 410, Punkt 3 = 340, Punkt 4 = 630,