

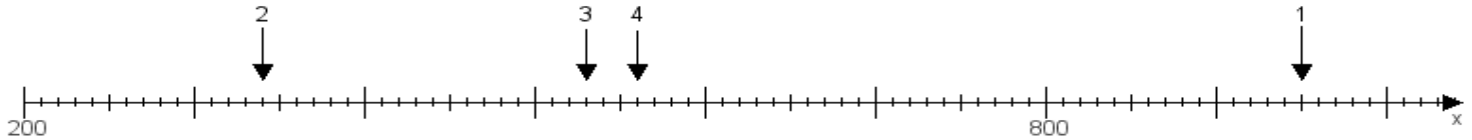
Name:

Klasse:

Datum:

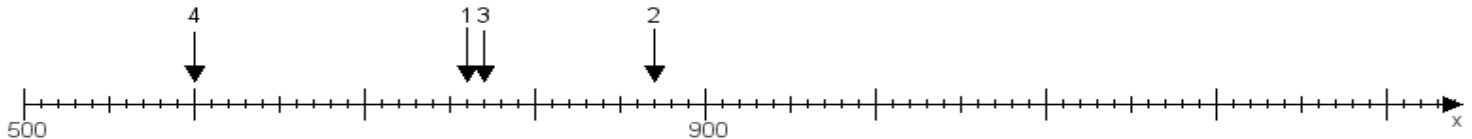
Aufgabe 1:

Ermittle die Werte von den Punkten 1 bis 4.



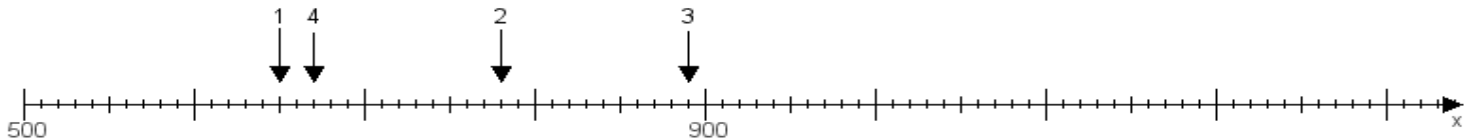
Aufgabe 2:

Ermittle die Werte von den Punkten 1 bis 4.



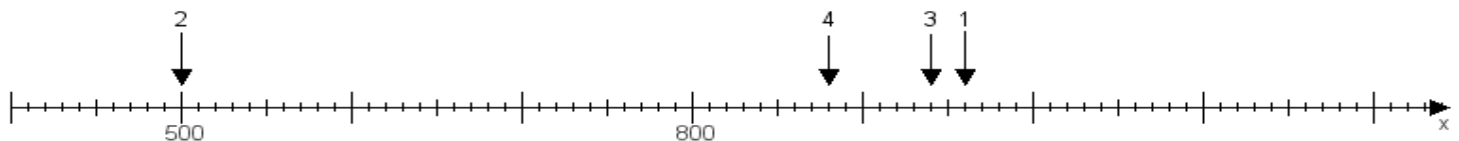
Aufgabe 3:

Ermittle die Werte von den Punkten 1 bis 4.



Aufgabe 4:

Ermittle die Werte von den Punkten 1 bis 4.



www.das-bastelteam.de -> Zahlenstrahl mit 4 Punkten. Blatt Nr.:340
Lösungen:

Aufgabe 1: Punkt 1 = 950, Punkt 2 = 340, Punkt 3 = 530, Punkt 4 = 560,

Aufgabe 2: Punkt 1 = 760, Punkt 2 = 870, Punkt 3 = 770, Punkt 4 = 600,

Aufgabe 3: Punkt 1 = 650, Punkt 2 = 780, Punkt 3 = 890, Punkt 4 = 670,

Aufgabe 4: Punkt 1 = 960, Punkt 2 = 500, Punkt 3 = 940, Punkt 4 = 880,