

Im Zahlenbereich bis max. 1000.

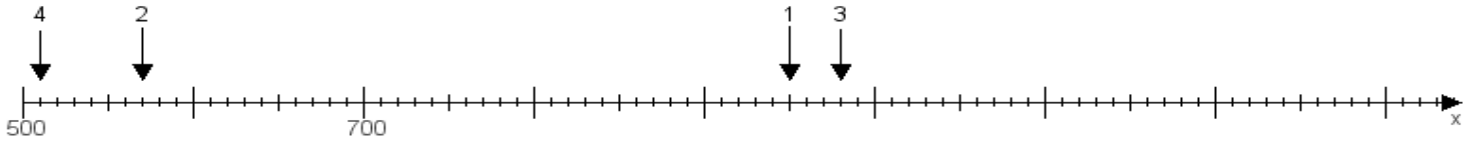
Name:

Klasse:

Datum:

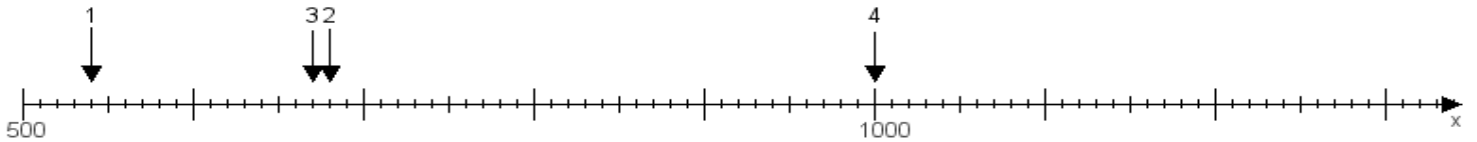
Aufgabe 1:

Ermittle die Werte von den Punkten 1 bis 4.



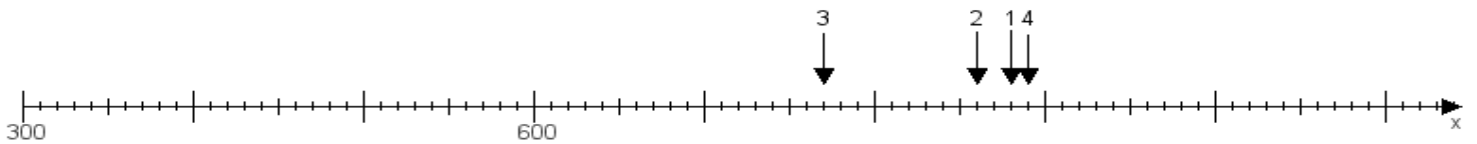
Aufgabe 2:

Ermittle die Werte von den Punkten 1 bis 4.



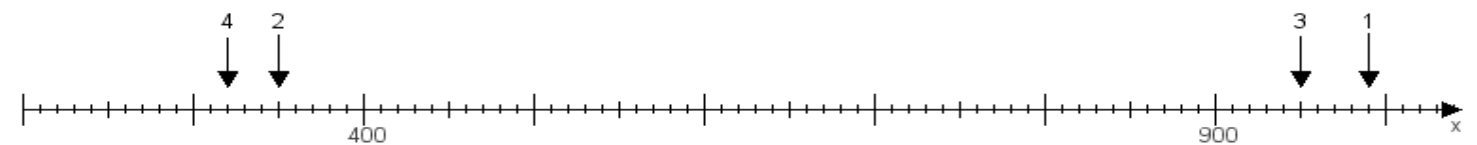
Aufgabe 3:

Ermittle die Werte von den Punkten 1 bis 4.



Aufgabe 4:

Ermittle die Werte von den Punkten 1 bis 4.



www.das-bastelteam.de -> Zahlenstrahl mit 4 Punkten. Blatt Nr.:33
Lösungen:

Aufgabe 1: Punkt 1 = 950, Punkt 2 = 570, Punkt 3 = 980, Punkt 4 = 510,

Aufgabe 2: Punkt 1 = 540, Punkt 2 = 680, Punkt 3 = 670, Punkt 4 = 1000,

Aufgabe 3: Punkt 1 = 880, Punkt 2 = 860, Punkt 3 = 770, Punkt 4 = 890,

Aufgabe 4: Punkt 1 = 990, Punkt 2 = 350, Punkt 3 = 950, Punkt 4 = 320,