

Im Zahlenbereich bis max. 1000.

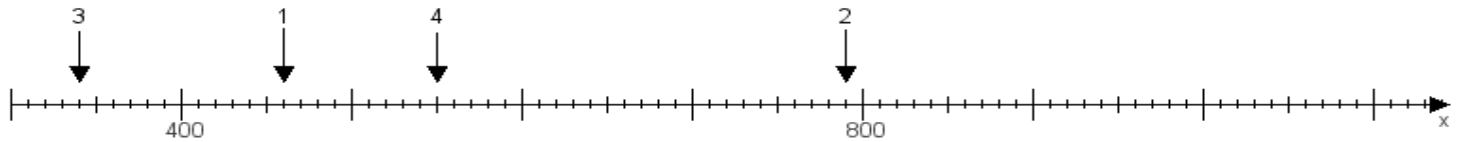
Name:

Klasse:

Datum:

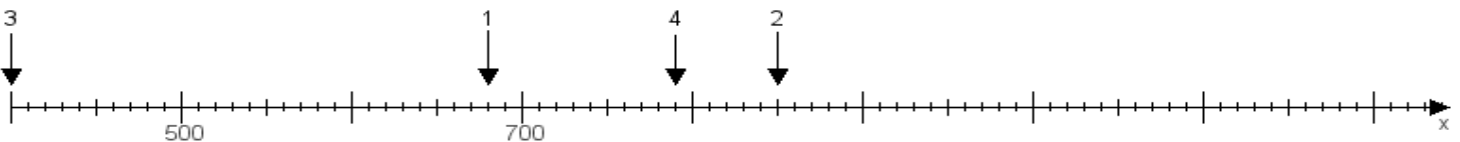
Aufgabe 1:

Ermittle die Werte von den Punkten 1 bis 4.



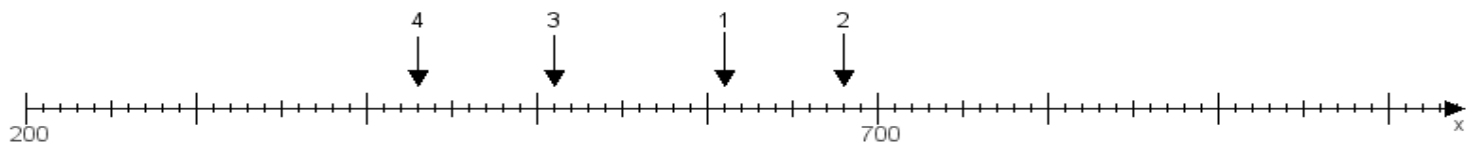
Aufgabe 2:

Ermittle die Werte von den Punkten 1 bis 4.



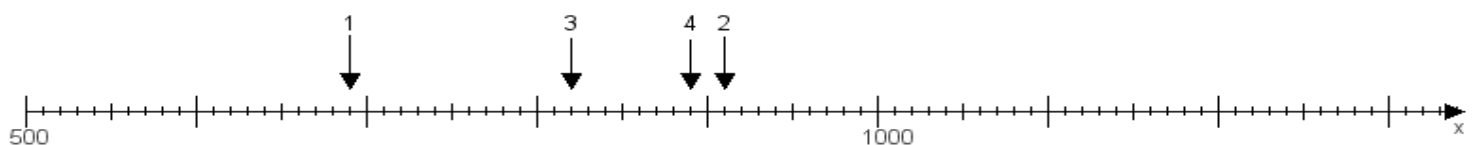
Aufgabe 3:

Ermittle die Werte von den Punkten 1 bis 4.



Aufgabe 4:

Ermittle die Werte von den Punkten 1 bis 4.



www.das-bastelteam.de -> Zahlenstrahl mit 4 Punkten. Blatt Nr.:339
Lösungen:

Aufgabe 1: Punkt 1 = 460, Punkt 2 = 790, Punkt 3 = 340, Punkt 4 = 550,

Aufgabe 2: Punkt 1 = 680, Punkt 2 = 850, Punkt 3 = 400, Punkt 4 = 790,

Aufgabe 3: Punkt 1 = 610, Punkt 2 = 680, Punkt 3 = 510, Punkt 4 = 430,

Aufgabe 4: Punkt 1 = 690, Punkt 2 = 910, Punkt 3 = 820, Punkt 4 = 890,