

Im Zahlenbereich bis max. 1000.

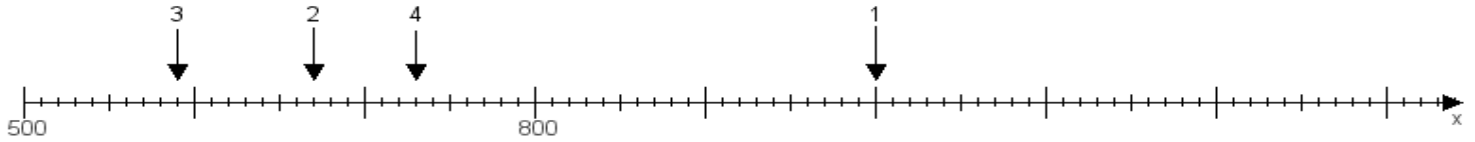
Name:

Klasse:

Datum:

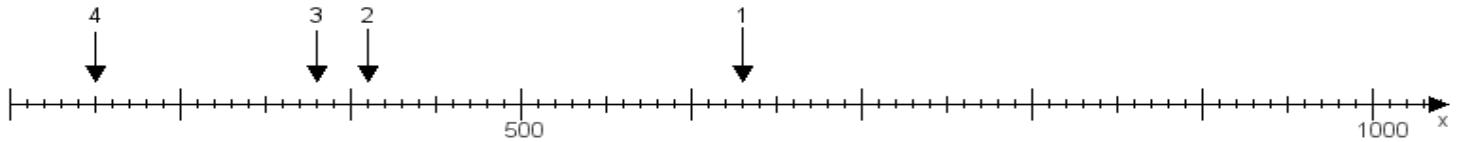
Aufgabe 1:

Ermittle die Werte von den Punkten 1 bis 4.



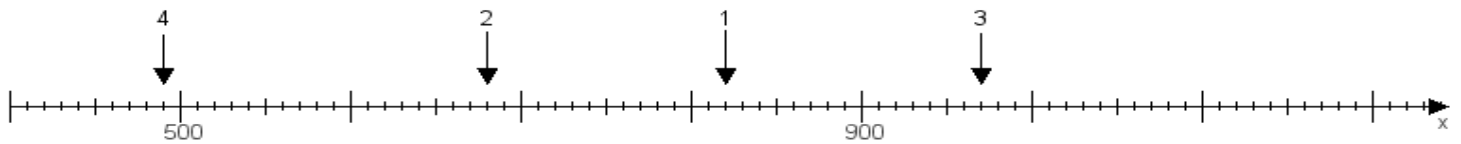
Aufgabe 2:

Ermittle die Werte von den Punkten 1 bis 4.



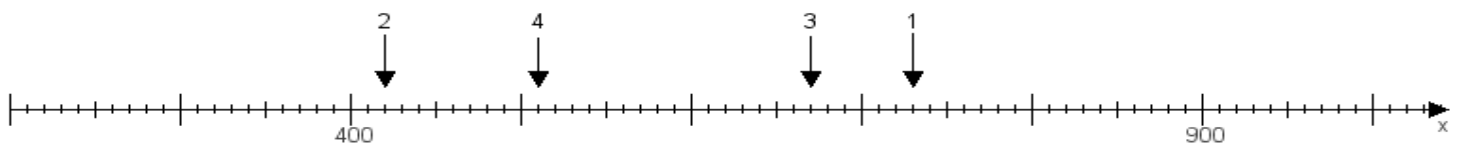
Aufgabe 3:

Ermittle die Werte von den Punkten 1 bis 4.



Aufgabe 4:

Ermittle die Werte von den Punkten 1 bis 4.



www.das-bastelteam.de -> Zahlenstrahl mit 4 Punkten. Blatt Nr.:337
Lösungen:

Aufgabe 1: Punkt 1 = 1000, Punkt 2 = 670, Punkt 3 = 590, Punkt 4 = 730,

Aufgabe 2: Punkt 1 = 630, Punkt 2 = 410, Punkt 3 = 380, Punkt 4 = 250,

Aufgabe 3: Punkt 1 = 820, Punkt 2 = 680, Punkt 3 = 970, Punkt 4 = 490,

Aufgabe 4: Punkt 1 = 730, Punkt 2 = 420, Punkt 3 = 670, Punkt 4 = 510,