

Im Zahlenbereich bis max. 1000.

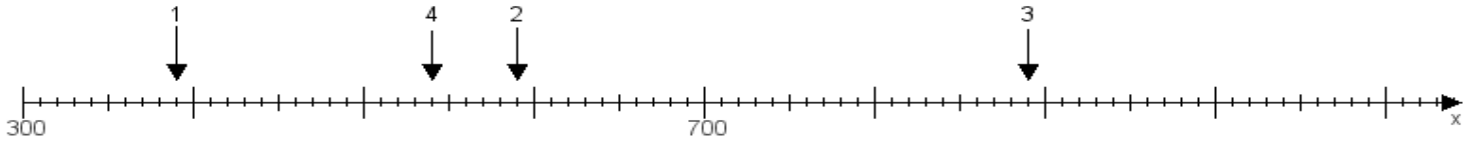
Name:

Klasse:

Datum:

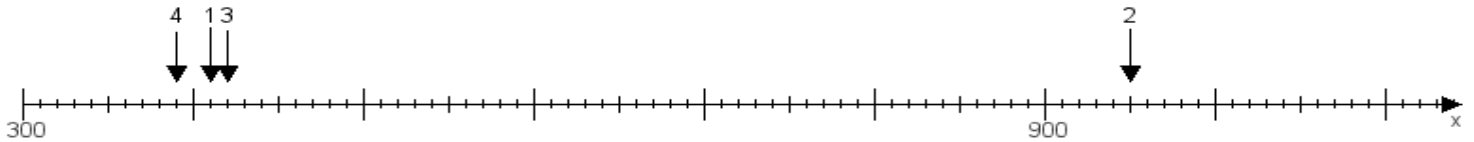
Aufgabe 1:

Ermittle die Werte von den Punkten 1 bis 4.



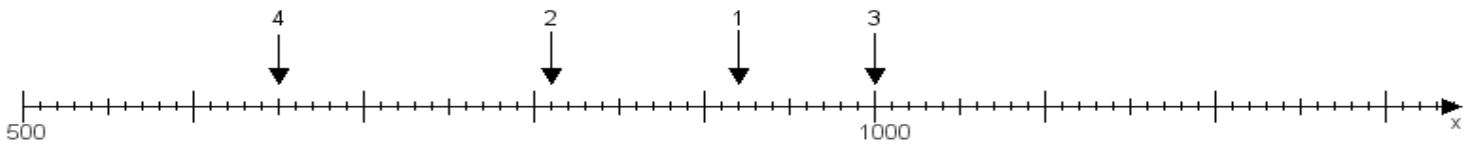
Aufgabe 2:

Ermittle die Werte von den Punkten 1 bis 4.



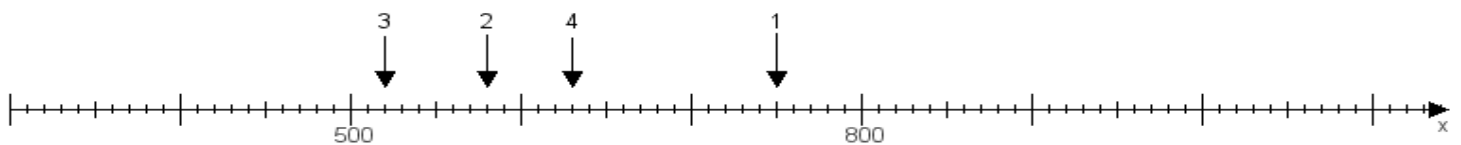
Aufgabe 3:

Ermittle die Werte von den Punkten 1 bis 4.



Aufgabe 4:

Ermittle die Werte von den Punkten 1 bis 4.



www.das-bastelteam.de -> Zahlenstrahl mit 4 Punkten. Blatt Nr.:336
Lösungen:

Aufgabe 1: Punkt 1 = 390, Punkt 2 = 590, Punkt 3 = 890, Punkt 4 = 540,

Aufgabe 2: Punkt 1 = 410, Punkt 2 = 950, Punkt 3 = 420, Punkt 4 = 390,

Aufgabe 3: Punkt 1 = 920, Punkt 2 = 810, Punkt 3 = 1000, Punkt 4 = 650,

Aufgabe 4: Punkt 1 = 750, Punkt 2 = 580, Punkt 3 = 520, Punkt 4 = 630,