

Im Zahlenbereich bis max. 1000.

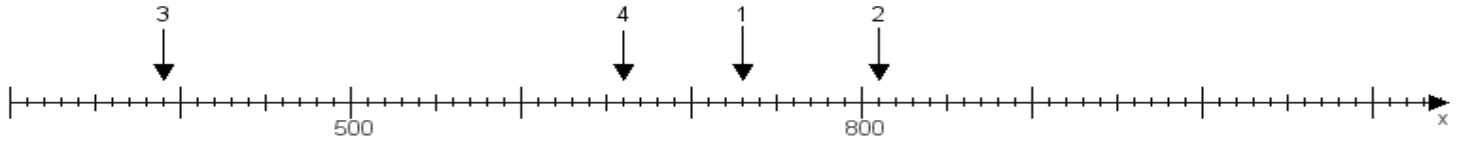
Name:

Klasse:

Datum:

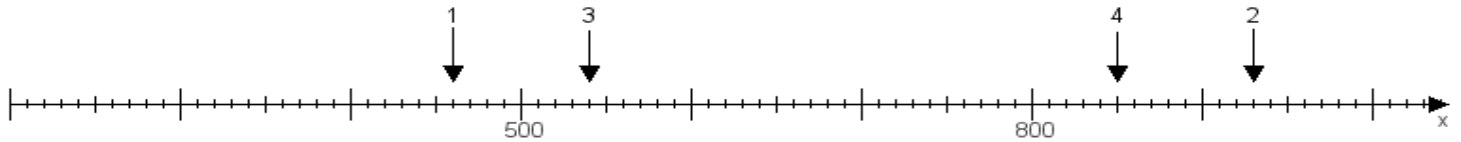
Aufgabe 1:

Ermittle die Werte von den Punkten 1 bis 4.



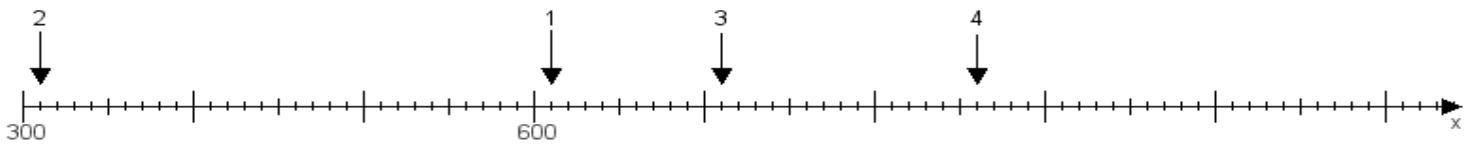
Aufgabe 2:

Ermittle die Werte von den Punkten 1 bis 4.



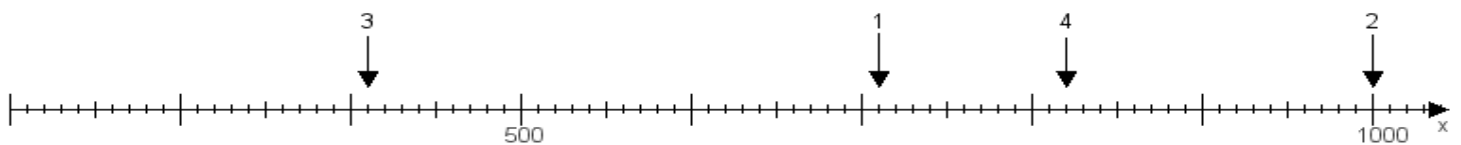
Aufgabe 3:

Ermittle die Werte von den Punkten 1 bis 4.



Aufgabe 4:

Ermittle die Werte von den Punkten 1 bis 4.



www.das-bastelteam.de -> Zahlenstrahl mit 4 Punkten. Blatt Nr.:335
Lösungen:

Aufgabe 1: Punkt 1 = 730, Punkt 2 = 810, Punkt 3 = 390, Punkt 4 = 660,

Aufgabe 2: Punkt 1 = 460, Punkt 2 = 930, Punkt 3 = 540, Punkt 4 = 850,

Aufgabe 3: Punkt 1 = 610, Punkt 2 = 310, Punkt 3 = 710, Punkt 4 = 860,

Aufgabe 4: Punkt 1 = 710, Punkt 2 = 1000, Punkt 3 = 410, Punkt 4 = 820,