

Im Zahlenbereich bis max. 1000.

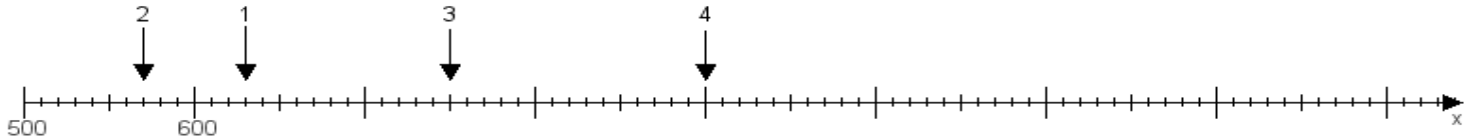
Name:

Klasse:

Datum:

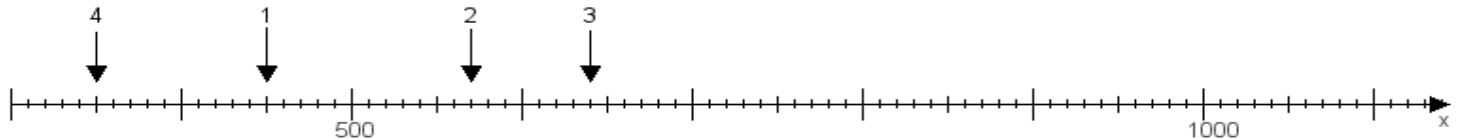
**Aufgabe 1:**

Ermittle die Werte von den Punkten 1 bis 4.



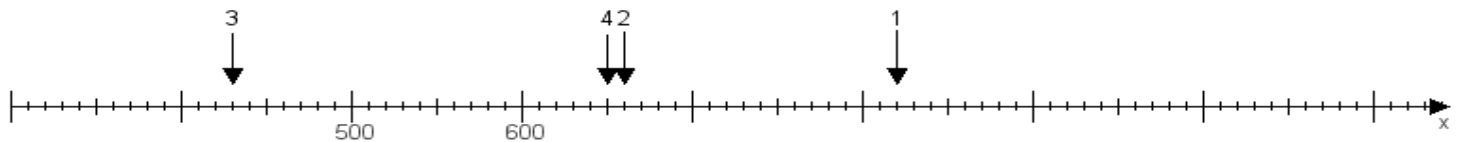
**Aufgabe 2:**

Ermittle die Werte von den Punkten 1 bis 4.



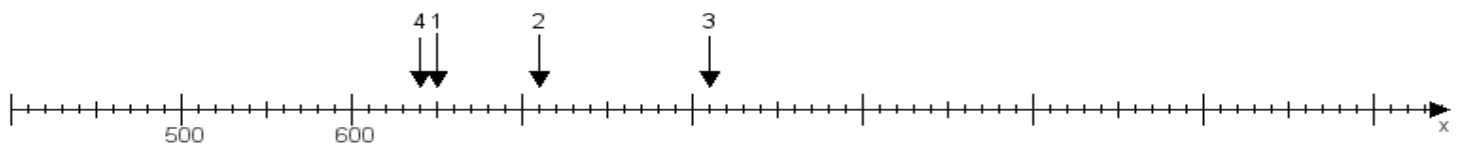
**Aufgabe 3:**

Ermittle die Werte von den Punkten 1 bis 4.



**Aufgabe 4:**

Ermittle die Werte von den Punkten 1 bis 4.



[www.das-bastelteam.de](http://www.das-bastelteam.de) -> Zahlenstrahl mit 4 Punkten. Blatt Nr.:334  
Lösungen:

Aufgabe 1: Punkt 1 = 630, Punkt 2 = 570, Punkt 3 = 750, Punkt 4 = 900,

Aufgabe 2: Punkt 1 = 450, Punkt 2 = 570, Punkt 3 = 640, Punkt 4 = 350,

Aufgabe 3: Punkt 1 = 820, Punkt 2 = 660, Punkt 3 = 430, Punkt 4 = 650,

Aufgabe 4: Punkt 1 = 650, Punkt 2 = 710, Punkt 3 = 810, Punkt 4 = 640,