

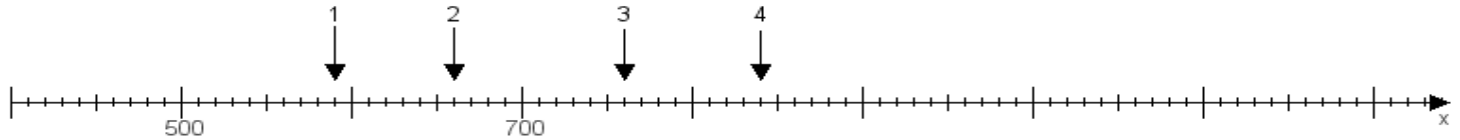
Name:

Klasse:

Datum:

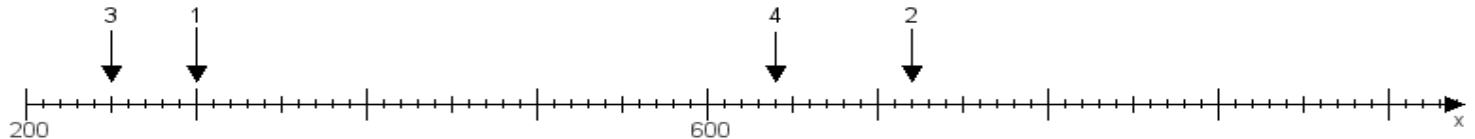
**Aufgabe 1:**

Ermittle die Werte von den Punkten 1 bis 4.



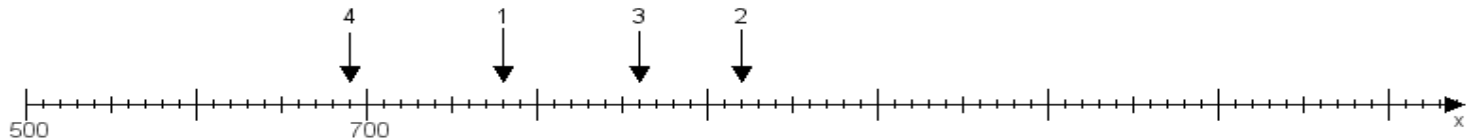
**Aufgabe 2:**

Ermittle die Werte von den Punkten 1 bis 4.



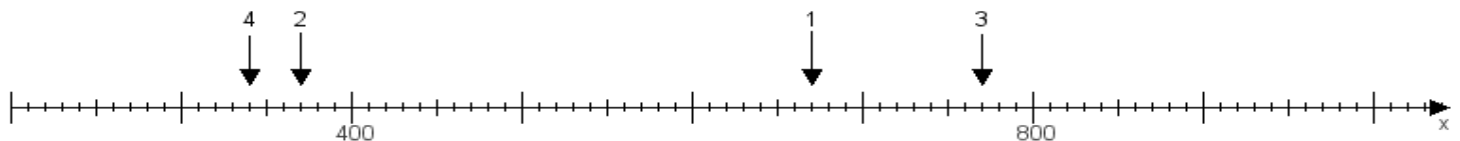
**Aufgabe 3:**

Ermittle die Werte von den Punkten 1 bis 4.



**Aufgabe 4:**

Ermittle die Werte von den Punkten 1 bis 4.



[www.das-bastelteam.de](http://www.das-bastelteam.de) -> Zahlenstrahl mit 4 Punkten. Blatt Nr.:332  
Lösungen:

Aufgabe 1: Punkt 1 = 590, Punkt 2 = 660, Punkt 3 = 760, Punkt 4 = 840,

Aufgabe 2: Punkt 1 = 300, Punkt 2 = 720, Punkt 3 = 250, Punkt 4 = 640,

Aufgabe 3: Punkt 1 = 780, Punkt 2 = 920, Punkt 3 = 860, Punkt 4 = 690,

Aufgabe 4: Punkt 1 = 670, Punkt 2 = 370, Punkt 3 = 770, Punkt 4 = 340,