

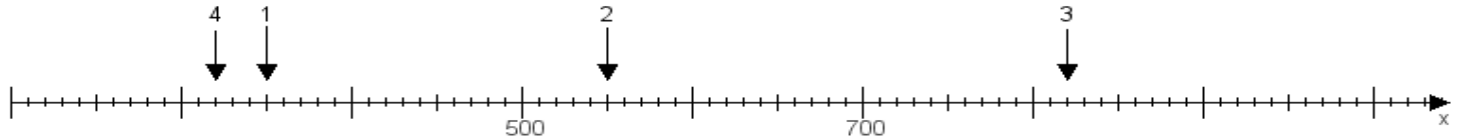
Name:

Klasse:

Datum:

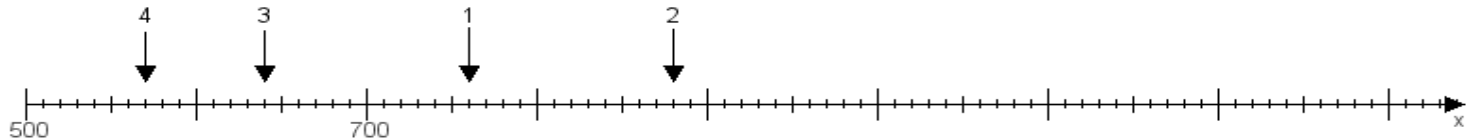
Aufgabe 1:

Ermittle die Werte von den Punkten 1 bis 4.



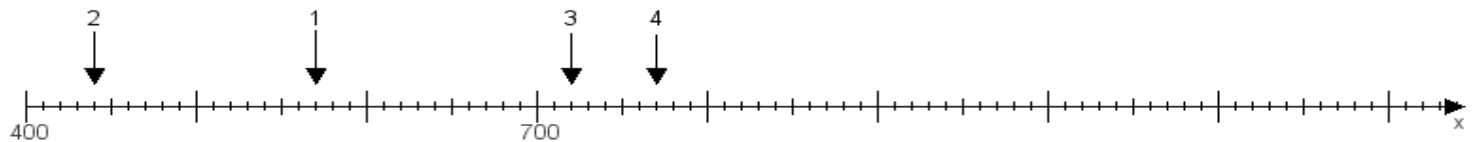
Aufgabe 2:

Ermittle die Werte von den Punkten 1 bis 4.



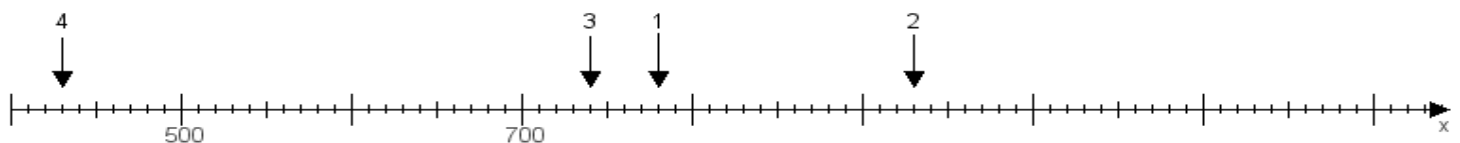
Aufgabe 3:

Ermittle die Werte von den Punkten 1 bis 4.



Aufgabe 4:

Ermittle die Werte von den Punkten 1 bis 4.



www.das-bastelteam.de -> Zahlenstrahl mit 4 Punkten. Blatt Nr.:331
Lösungen:

Aufgabe 1: Punkt 1 = 350, Punkt 2 = 550, Punkt 3 = 820, Punkt 4 = 320,

Aufgabe 2: Punkt 1 = 760, Punkt 2 = 880, Punkt 3 = 640, Punkt 4 = 570,

Aufgabe 3: Punkt 1 = 570, Punkt 2 = 440, Punkt 3 = 720, Punkt 4 = 770,

Aufgabe 4: Punkt 1 = 780, Punkt 2 = 930, Punkt 3 = 740, Punkt 4 = 430,