

Im Zahlenbereich bis max. 1000.

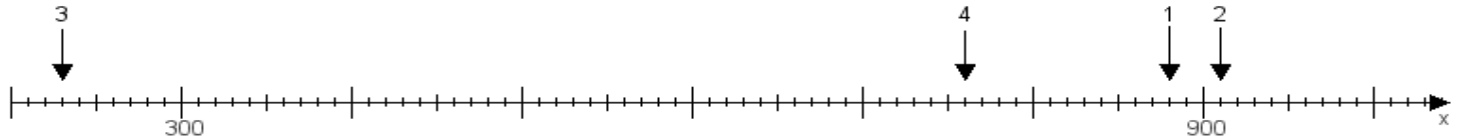
Name:

Klasse:

Datum:

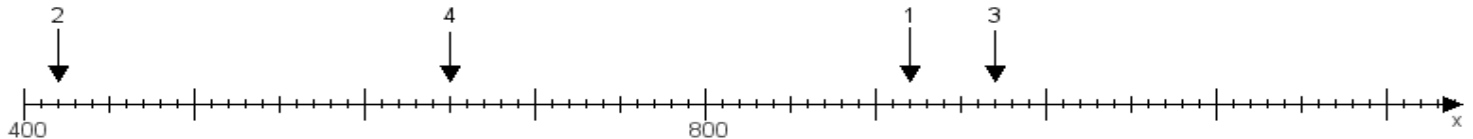
**Aufgabe 1:**

Ermittle die Werte von den Punkten 1 bis 4.



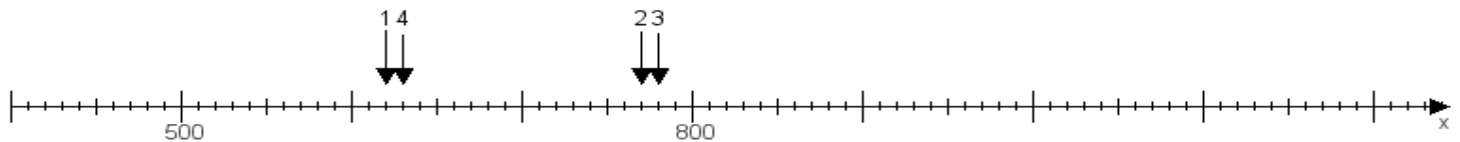
**Aufgabe 2:**

Ermittle die Werte von den Punkten 1 bis 4.



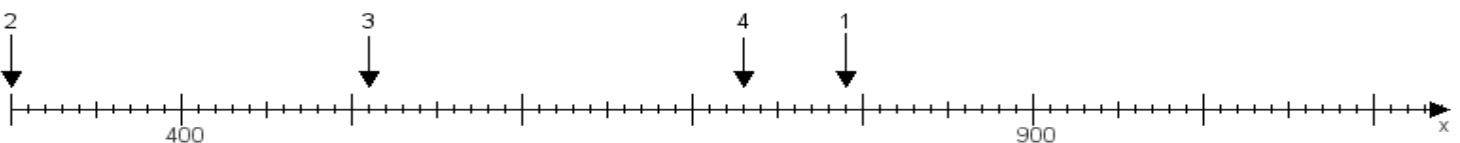
**Aufgabe 3:**

Ermittle die Werte von den Punkten 1 bis 4.



**Aufgabe 4:**

Ermittle die Werte von den Punkten 1 bis 4.



[www.das-bastelteam.de](http://www.das-bastelteam.de) -> Zahlenstrahl mit 4 Punkten. Blatt Nr.:330  
Lösungen:

Aufgabe 1: Punkt 1 = 880, Punkt 2 = 910, Punkt 3 = 230, Punkt 4 = 760,

Aufgabe 2: Punkt 1 = 920, Punkt 2 = 420, Punkt 3 = 970, Punkt 4 = 650,

Aufgabe 3: Punkt 1 = 620, Punkt 2 = 770, Punkt 3 = 780, Punkt 4 = 630,

Aufgabe 4: Punkt 1 = 790, Punkt 2 = 300, Punkt 3 = 510, Punkt 4 = 730,