

Im Zahlenbereich bis max. 1000.

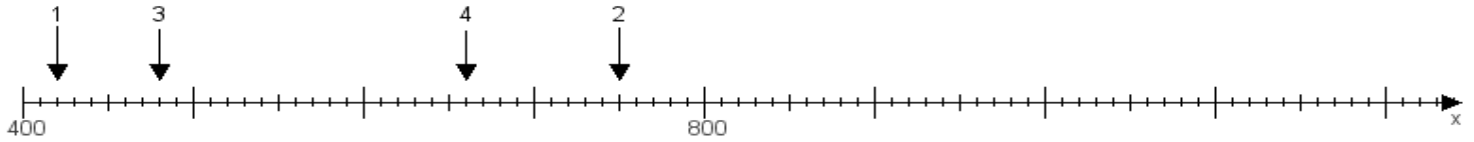
Name:

Klasse:

Datum:

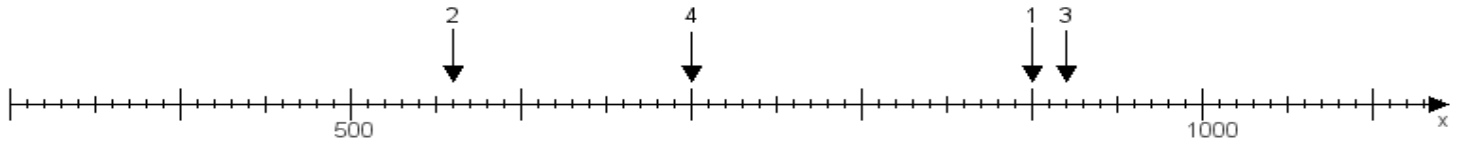
Aufgabe 1:

Ermittle die Werte von den Punkten 1 bis 4.



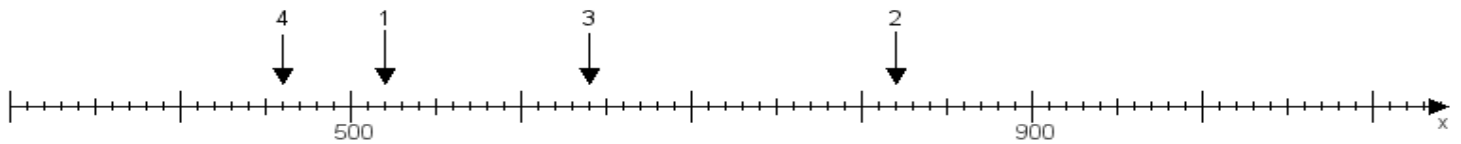
Aufgabe 2:

Ermittle die Werte von den Punkten 1 bis 4.



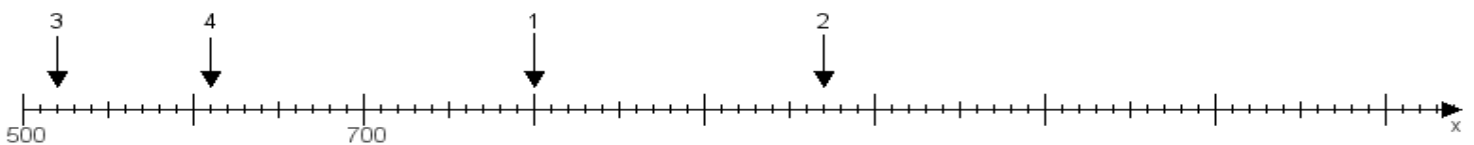
Aufgabe 3:

Ermittle die Werte von den Punkten 1 bis 4.



Aufgabe 4:

Ermittle die Werte von den Punkten 1 bis 4.



www.das-bastelteam.de -> Zahlenstrahl mit 4 Punkten. Blatt Nr.:32
Lösungen:

Aufgabe 1: Punkt 1 = 420, Punkt 2 = 750, Punkt 3 = 480, Punkt 4 = 660,

Aufgabe 2: Punkt 1 = 900, Punkt 2 = 560, Punkt 3 = 920, Punkt 4 = 700,

Aufgabe 3: Punkt 1 = 520, Punkt 2 = 820, Punkt 3 = 640, Punkt 4 = 460,

Aufgabe 4: Punkt 1 = 800, Punkt 2 = 970, Punkt 3 = 520, Punkt 4 = 610,

www.bin-dann-weg.de -> Ferienwohnungen und Ferienhäuser.

www.kleinanzeigen-und-annoncen.de -> Kostenlose Kleinanzeigen deutschlandweit.