

Im Zahlenbereich bis max. 1000.

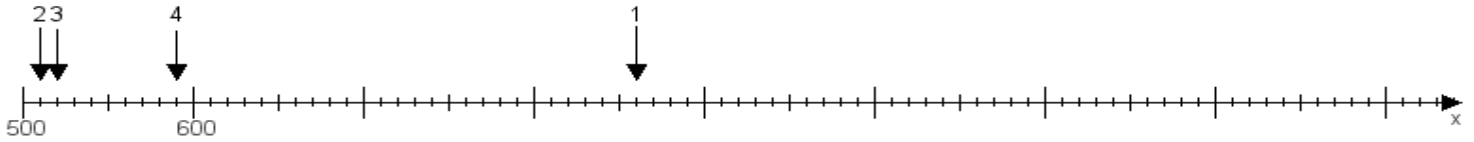
Name:

Klasse:

Datum:

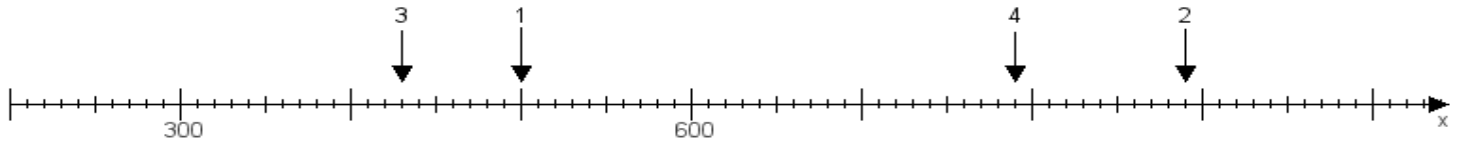
Aufgabe 1:

Ermittle die Werte von den Punkten 1 bis 4.



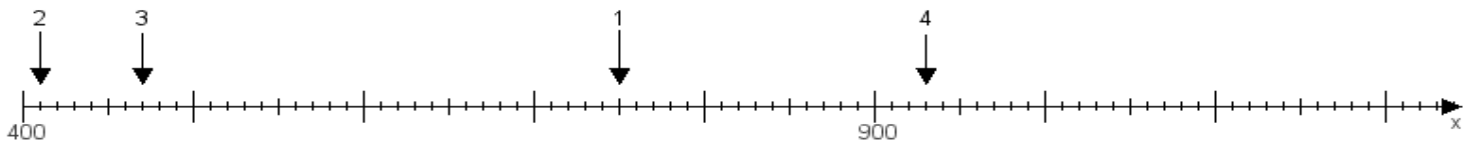
Aufgabe 2:

Ermittle die Werte von den Punkten 1 bis 4.



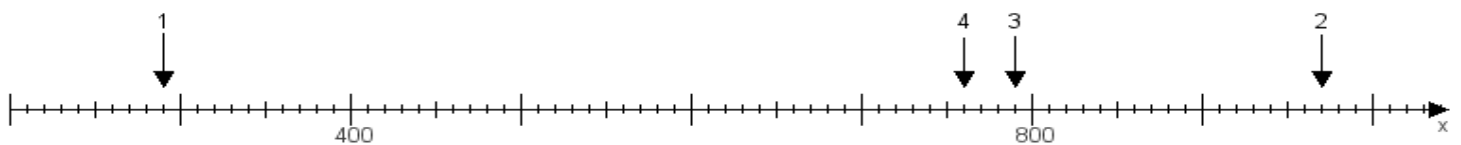
Aufgabe 3:

Ermittle die Werte von den Punkten 1 bis 4.



Aufgabe 4:

Ermittle die Werte von den Punkten 1 bis 4.



www.das-bastelteam.de -> Zahlenstrahl mit 4 Punkten. Blatt Nr.:328
Lösungen:

Aufgabe 1: Punkt 1 = 860, Punkt 2 = 510, Punkt 3 = 520, Punkt 4 = 590,

Aufgabe 2: Punkt 1 = 500, Punkt 2 = 890, Punkt 3 = 430, Punkt 4 = 790,

Aufgabe 3: Punkt 1 = 750, Punkt 2 = 410, Punkt 3 = 470, Punkt 4 = 930,

Aufgabe 4: Punkt 1 = 290, Punkt 2 = 970, Punkt 3 = 790, Punkt 4 = 760,