

Im Zahlenbereich bis max. 1000.

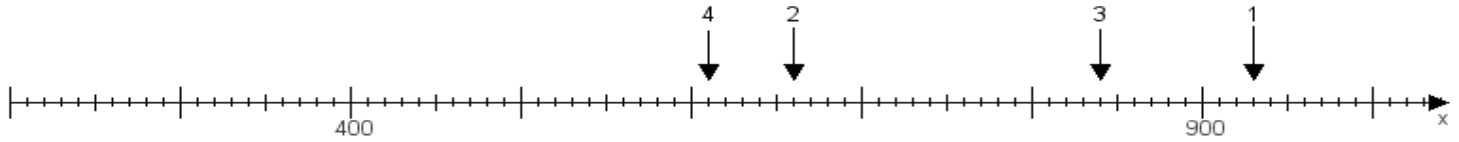
Name:

Klasse:

Datum:

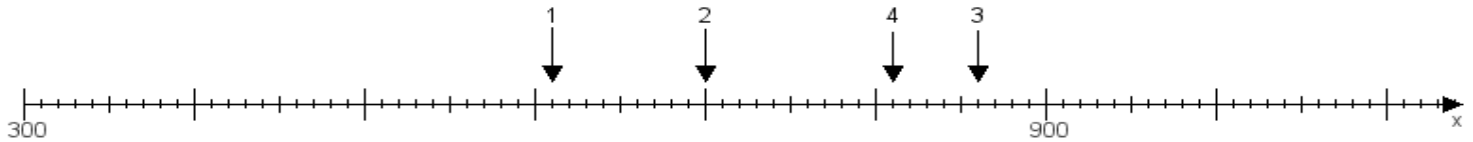
Aufgabe 1:

Ermittle die Werte von den Punkten 1 bis 4.



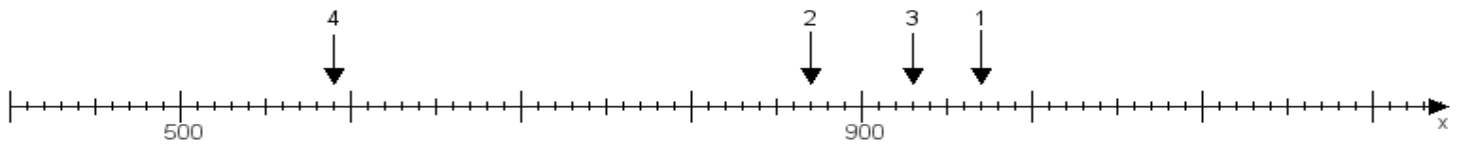
Aufgabe 2:

Ermittle die Werte von den Punkten 1 bis 4.



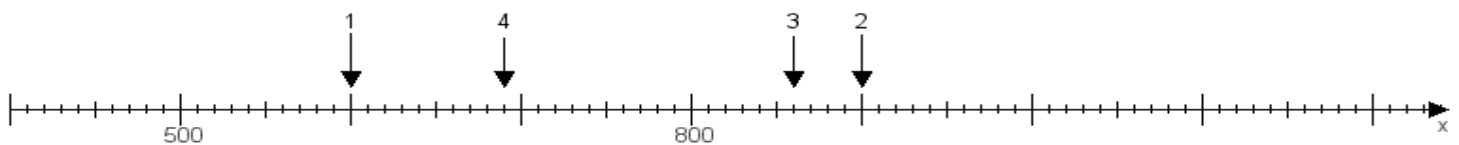
Aufgabe 3:

Ermittle die Werte von den Punkten 1 bis 4.



Aufgabe 4:

Ermittle die Werte von den Punkten 1 bis 4.



www.das-bastelteam.de -> Zahlenstrahl mit 4 Punkten. Blatt Nr.:327
Lösungen:

Aufgabe 1: Punkt 1 = 930, Punkt 2 = 660, Punkt 3 = 840, Punkt 4 = 610,

Aufgabe 2: Punkt 1 = 610, Punkt 2 = 700, Punkt 3 = 860, Punkt 4 = 810,

Aufgabe 3: Punkt 1 = 970, Punkt 2 = 870, Punkt 3 = 930, Punkt 4 = 590,

Aufgabe 4: Punkt 1 = 600, Punkt 2 = 900, Punkt 3 = 860, Punkt 4 = 690,