

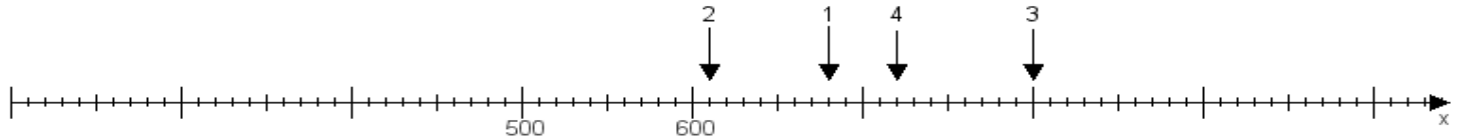
Name:

Klasse:

Datum:

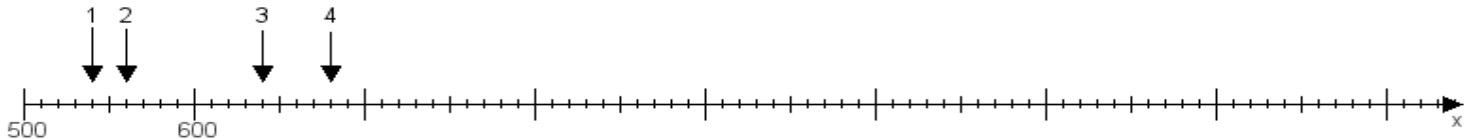
Aufgabe 1:

Ermittle die Werte von den Punkten 1 bis 4.



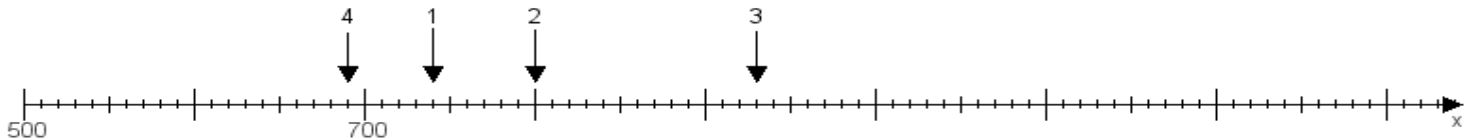
Aufgabe 2:

Ermittle die Werte von den Punkten 1 bis 4.



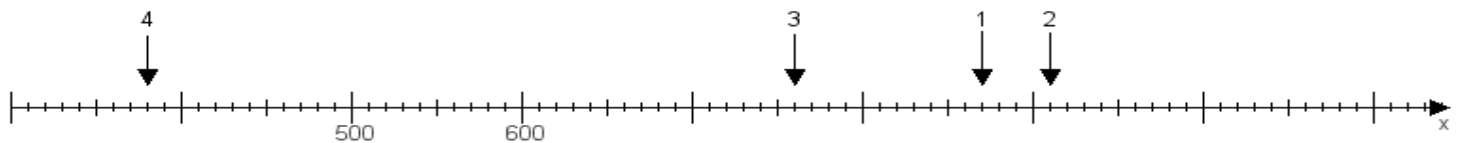
Aufgabe 3:

Ermittle die Werte von den Punkten 1 bis 4.



Aufgabe 4:

Ermittle die Werte von den Punkten 1 bis 4.



www.das-bastelteam.de -> Zahlenstrahl mit 4 Punkten. Blatt Nr.:326
Lösungen:

Aufgabe 1: Punkt 1 = 680, Punkt 2 = 610, Punkt 3 = 800, Punkt 4 = 720,

Aufgabe 2: Punkt 1 = 540, Punkt 2 = 560, Punkt 3 = 640, Punkt 4 = 680,

Aufgabe 3: Punkt 1 = 740, Punkt 2 = 800, Punkt 3 = 930, Punkt 4 = 690,

Aufgabe 4: Punkt 1 = 870, Punkt 2 = 910, Punkt 3 = 760, Punkt 4 = 380,