

Im Zahlenbereich bis max. 1000.

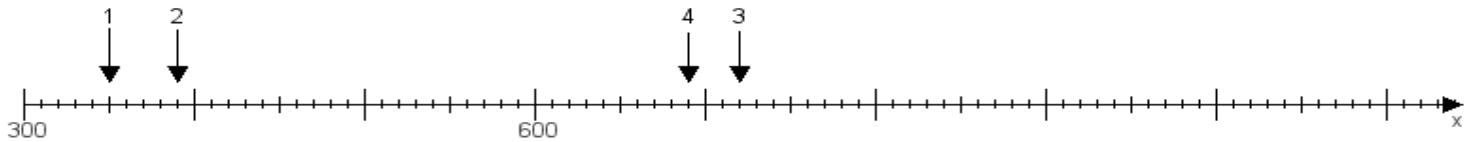
Name:

Klasse:

Datum:

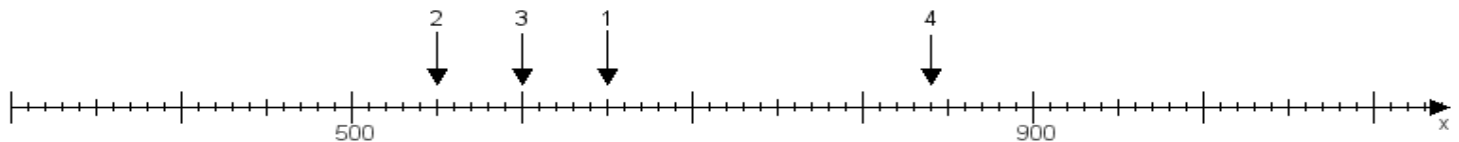
Aufgabe 1:

Ermittle die Werte von den Punkten 1 bis 4.



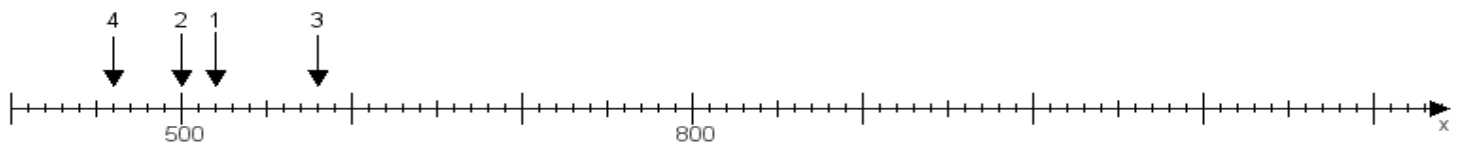
Aufgabe 2:

Ermittle die Werte von den Punkten 1 bis 4.



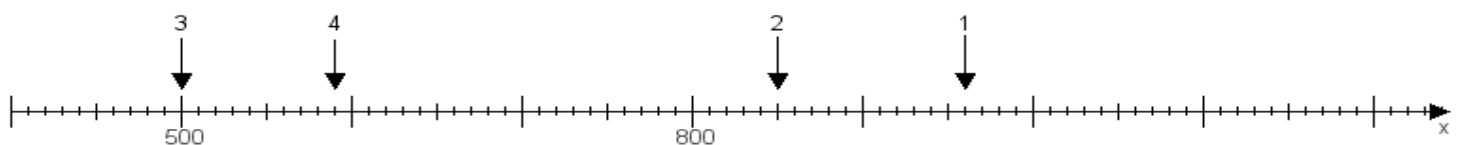
Aufgabe 3:

Ermittle die Werte von den Punkten 1 bis 4.



Aufgabe 4:

Ermittle die Werte von den Punkten 1 bis 4.



www.das-bastelteam.de -> Zahlenstrahl mit 4 Punkten. Blatt Nr.:325
Lösungen:

Aufgabe 1: Punkt 1 = 350, Punkt 2 = 390, Punkt 3 = 720, Punkt 4 = 690,

Aufgabe 2: Punkt 1 = 650, Punkt 2 = 550, Punkt 3 = 600, Punkt 4 = 840,

Aufgabe 3: Punkt 1 = 520, Punkt 2 = 500, Punkt 3 = 580, Punkt 4 = 460,

Aufgabe 4: Punkt 1 = 960, Punkt 2 = 850, Punkt 3 = 500, Punkt 4 = 590,