

Im Zahlenbereich bis max. 1000.

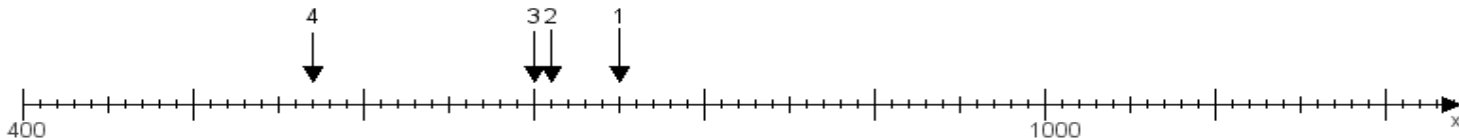
Name:

Klasse:

Datum:

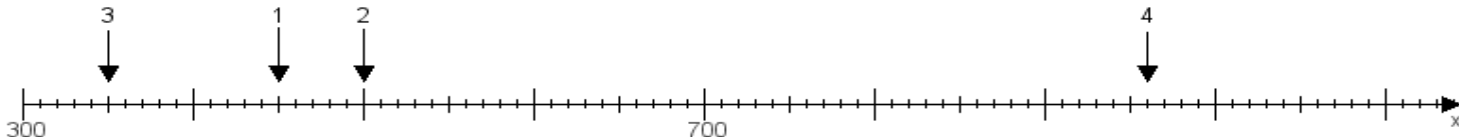
Aufgabe 1:

Ermittle die Werte von den Punkten 1 bis 4.



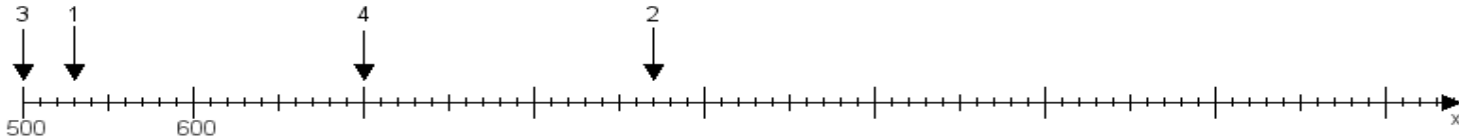
Aufgabe 2:

Ermittle die Werte von den Punkten 1 bis 4.



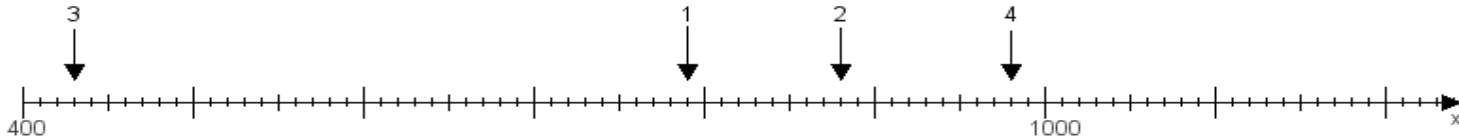
Aufgabe 3:

Ermittle die Werte von den Punkten 1 bis 4.



Aufgabe 4:

Ermittle die Werte von den Punkten 1 bis 4.



www.das-bastelteam.de -> Zahlenstrahl mit 4 Punkten. Blatt Nr.:324
Lösungen:

Aufgabe 1: Punkt 1 = 750, Punkt 2 = 710, Punkt 3 = 700, Punkt 4 = 570,

Aufgabe 2: Punkt 1 = 450, Punkt 2 = 500, Punkt 3 = 350, Punkt 4 = 960,

Aufgabe 3: Punkt 1 = 530, Punkt 2 = 870, Punkt 3 = 500, Punkt 4 = 700,

Aufgabe 4: Punkt 1 = 790, Punkt 2 = 880, Punkt 3 = 430, Punkt 4 = 980,