

Im Zahlenbereich bis max. 1000.

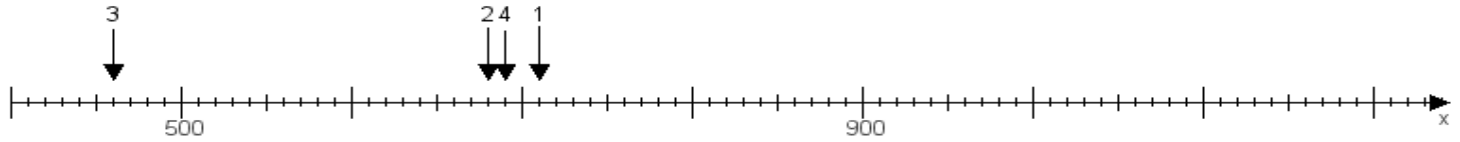
Name:

Klasse:

Datum:

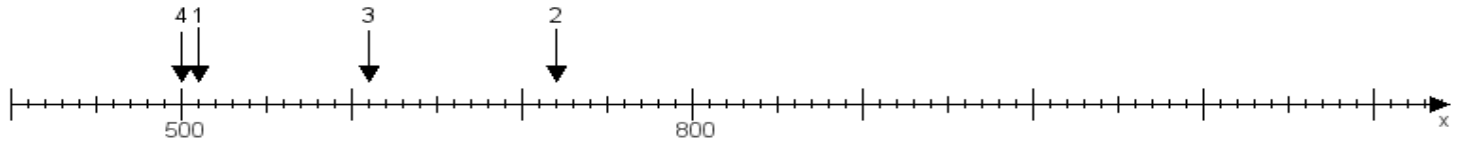
Aufgabe 1:

Ermittle die Werte von den Punkten 1 bis 4.



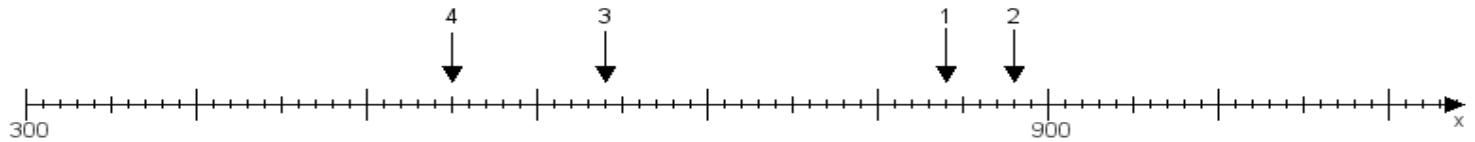
Aufgabe 2:

Ermittle die Werte von den Punkten 1 bis 4.



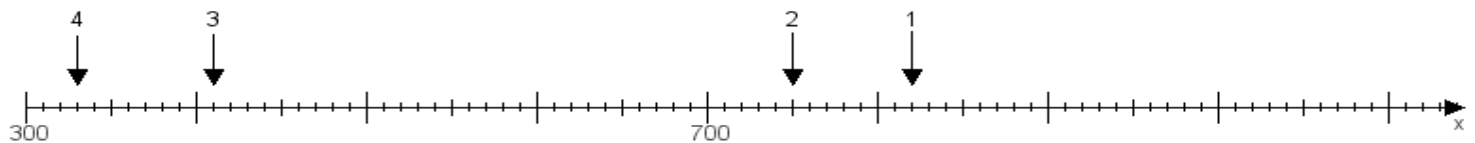
Aufgabe 3:

Ermittle die Werte von den Punkten 1 bis 4.



Aufgabe 4:

Ermittle die Werte von den Punkten 1 bis 4.



www.das-bastelteam.de -> Zahlenstrahl mit 4 Punkten. Blatt Nr.:322
Lösungen:

Aufgabe 1: Punkt 1 = 710, Punkt 2 = 680, Punkt 3 = 460, Punkt 4 = 690,

Aufgabe 2: Punkt 1 = 510, Punkt 2 = 720, Punkt 3 = 610, Punkt 4 = 500,

Aufgabe 3: Punkt 1 = 840, Punkt 2 = 880, Punkt 3 = 640, Punkt 4 = 550,

Aufgabe 4: Punkt 1 = 820, Punkt 2 = 750, Punkt 3 = 410, Punkt 4 = 330,