

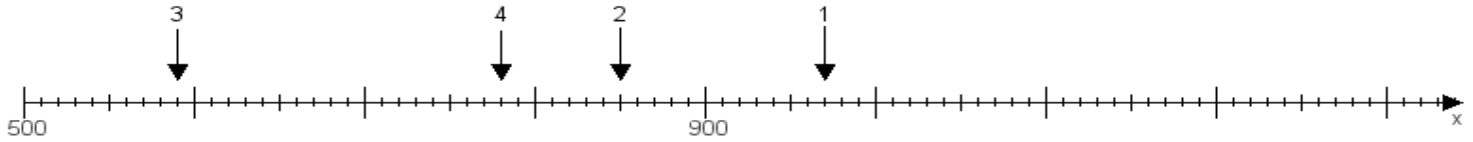
Name:

Klasse:

Datum:

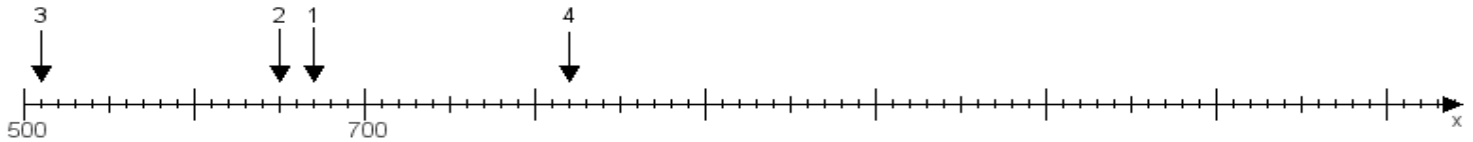
Aufgabe 1:

Ermittle die Werte von den Punkten 1 bis 4.



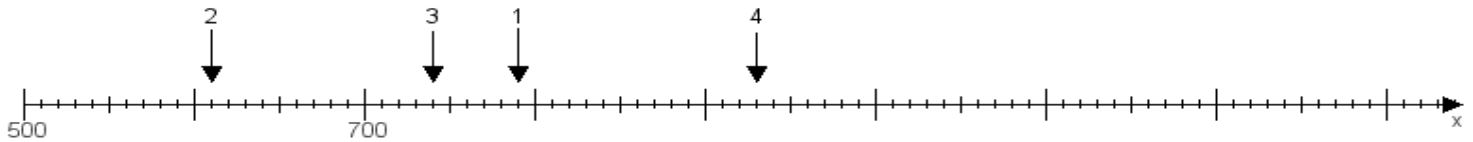
Aufgabe 2:

Ermittle die Werte von den Punkten 1 bis 4.



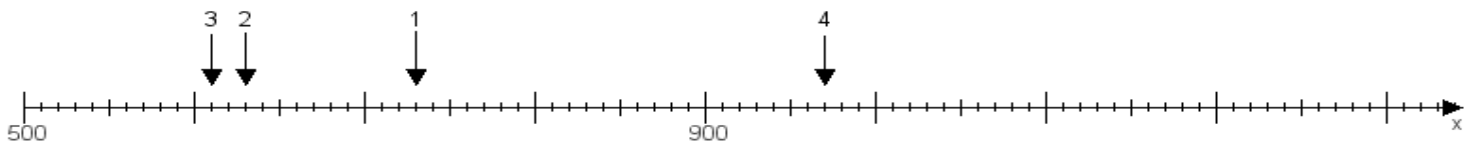
Aufgabe 3:

Ermittle die Werte von den Punkten 1 bis 4.



Aufgabe 4:

Ermittle die Werte von den Punkten 1 bis 4.



www.das-bastelteam.de -> Zahlenstrahl mit 4 Punkten. Blatt Nr.:320
Lösungen:

Aufgabe 1: Punkt 1 = 970, Punkt 2 = 850, Punkt 3 = 590, Punkt 4 = 780,

Aufgabe 2: Punkt 1 = 670, Punkt 2 = 650, Punkt 3 = 510, Punkt 4 = 820,

Aufgabe 3: Punkt 1 = 790, Punkt 2 = 610, Punkt 3 = 740, Punkt 4 = 930,

Aufgabe 4: Punkt 1 = 730, Punkt 2 = 630, Punkt 3 = 610, Punkt 4 = 970,