

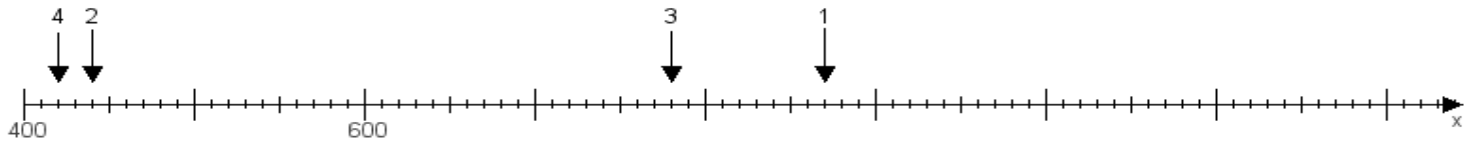
Name:

Klasse:

Datum:

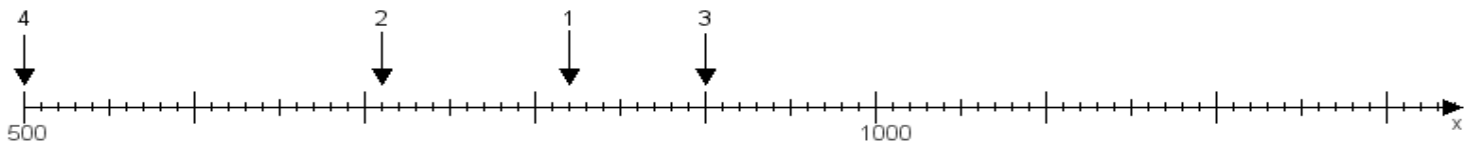
Aufgabe 1:

Ermittle die Werte von den Punkten 1 bis 4.



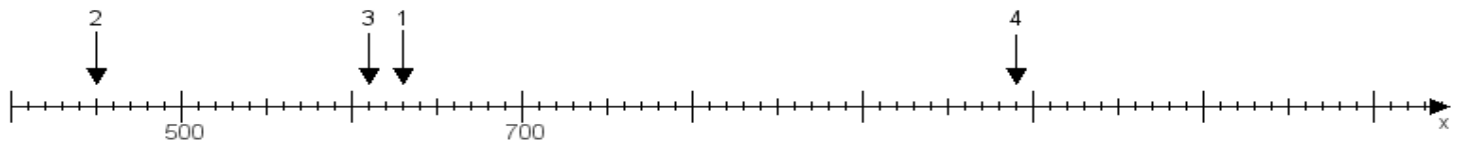
Aufgabe 2:

Ermittle die Werte von den Punkten 1 bis 4.



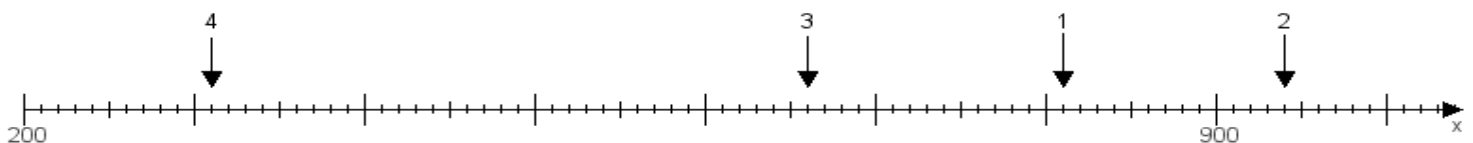
Aufgabe 3:

Ermittle die Werte von den Punkten 1 bis 4.



Aufgabe 4:

Ermittle die Werte von den Punkten 1 bis 4.



www.das-bastelteam.de -> Zahlenstrahl mit 4 Punkten. Blatt Nr.:31
Lösungen:

Aufgabe 1: Punkt 1 = 870, Punkt 2 = 440, Punkt 3 = 780, Punkt 4 = 420,

Aufgabe 2: Punkt 1 = 820, Punkt 2 = 710, Punkt 3 = 900, Punkt 4 = 500,

Aufgabe 3: Punkt 1 = 630, Punkt 2 = 450, Punkt 3 = 610, Punkt 4 = 990,

Aufgabe 4: Punkt 1 = 810, Punkt 2 = 940, Punkt 3 = 660, Punkt 4 = 310,