

Im Zahlenbereich bis max. 1000.

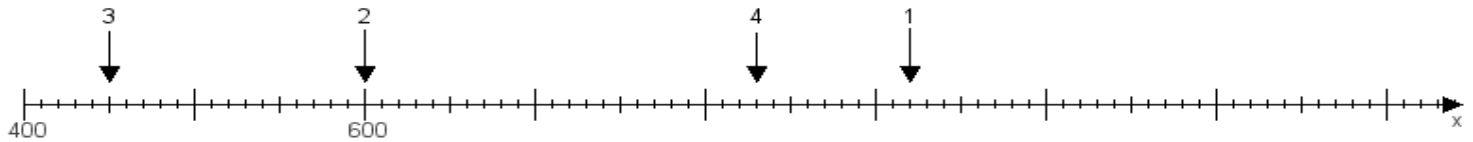
Name:

Klasse:

Datum:

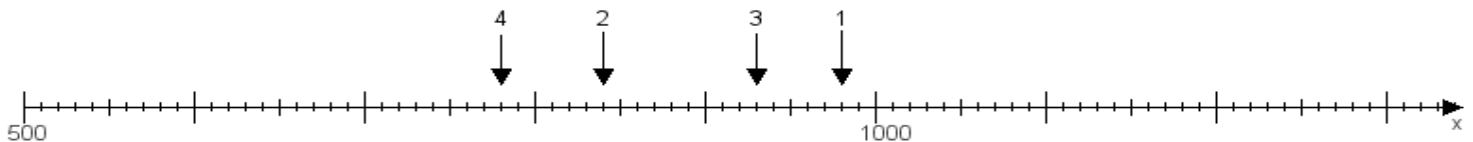
**Aufgabe 1:**

Ermittle die Werte von den Punkten 1 bis 4.



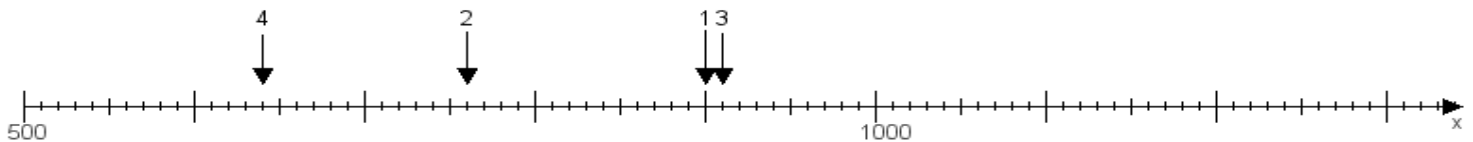
**Aufgabe 2:**

Ermittle die Werte von den Punkten 1 bis 4.



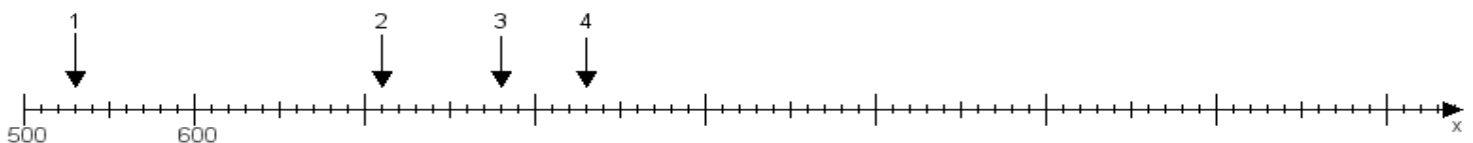
**Aufgabe 3:**

Ermittle die Werte von den Punkten 1 bis 4.



**Aufgabe 4:**

Ermittle die Werte von den Punkten 1 bis 4.



[www.das-bastelteam.de](http://www.das-bastelteam.de) -> Zahlenstrahl mit 4 Punkten. Blatt Nr.:318  
Lösungen:

Aufgabe 1: Punkt 1 = 920, Punkt 2 = 600, Punkt 3 = 450, Punkt 4 = 830,

Aufgabe 2: Punkt 1 = 980, Punkt 2 = 840, Punkt 3 = 930, Punkt 4 = 780,

Aufgabe 3: Punkt 1 = 900, Punkt 2 = 760, Punkt 3 = 910, Punkt 4 = 640,

Aufgabe 4: Punkt 1 = 530, Punkt 2 = 710, Punkt 3 = 780, Punkt 4 = 830,