

Im Zahlenbereich bis max. 1000.

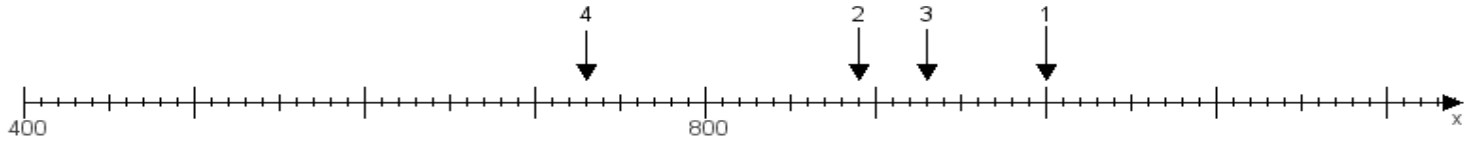
Name:

Klasse:

Datum:

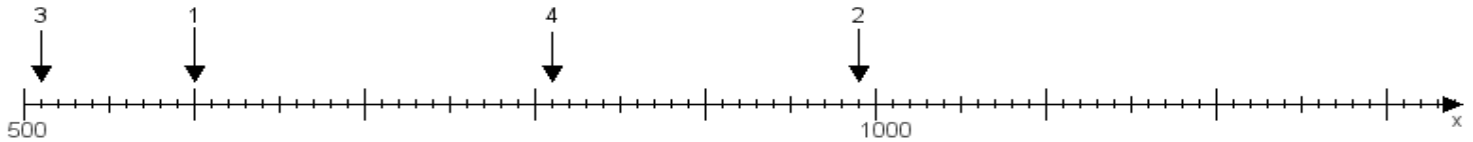
Aufgabe 1:

Ermittle die Werte von den Punkten 1 bis 4.



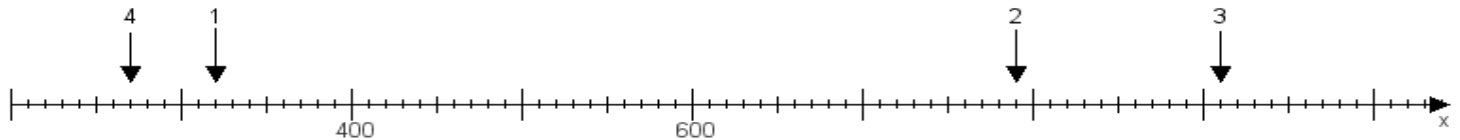
Aufgabe 2:

Ermittle die Werte von den Punkten 1 bis 4.



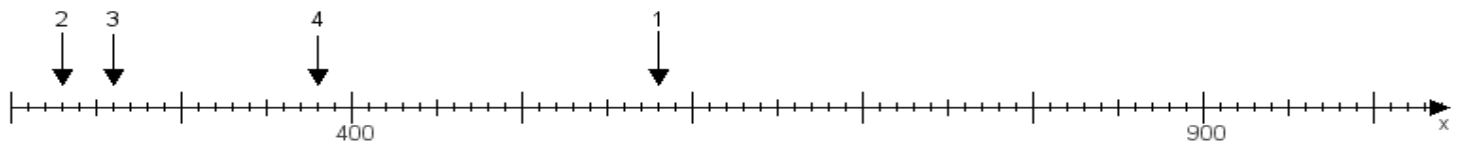
Aufgabe 3:

Ermittle die Werte von den Punkten 1 bis 4.



Aufgabe 4:

Ermittle die Werte von den Punkten 1 bis 4.



www.das-bastelteam.de -> Zahlenstrahl mit 4 Punkten. Blatt Nr.:315
Lösungen:

Aufgabe 1: Punkt 1 = 1000, Punkt 2 = 890, Punkt 3 = 930, Punkt 4 = 730,

Aufgabe 2: Punkt 1 = 600, Punkt 2 = 990, Punkt 3 = 510, Punkt 4 = 810,

Aufgabe 3: Punkt 1 = 320, Punkt 2 = 790, Punkt 3 = 910, Punkt 4 = 270,

Aufgabe 4: Punkt 1 = 580, Punkt 2 = 230, Punkt 3 = 260, Punkt 4 = 380,