

Im Zahlenbereich bis max. 1000.

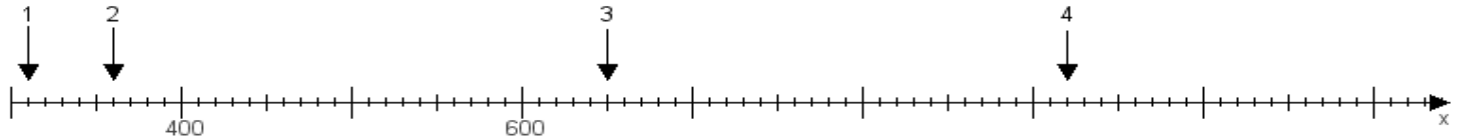
Name:

Klasse:

Datum:

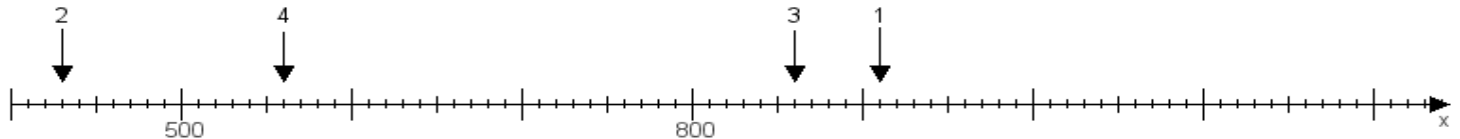
Aufgabe 1:

Ermittle die Werte von den Punkten 1 bis 4.



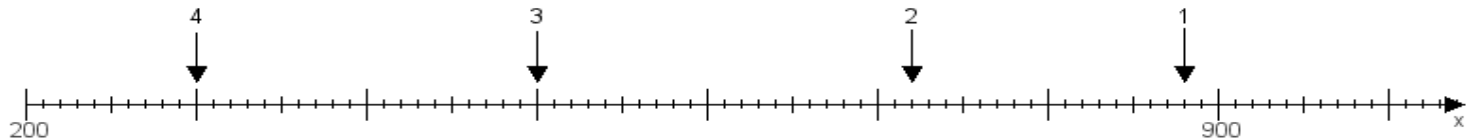
Aufgabe 2:

Ermittle die Werte von den Punkten 1 bis 4.



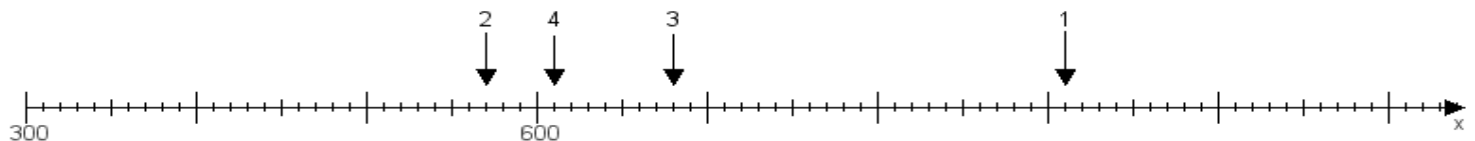
Aufgabe 3:

Ermittle die Werte von den Punkten 1 bis 4.



Aufgabe 4:

Ermittle die Werte von den Punkten 1 bis 4.



www.das-bastelteam.de -> Zahlenstrahl mit 4 Punkten. Blatt Nr.:313
Lösungen:

Aufgabe 1: Punkt 1 = 310, Punkt 2 = 360, Punkt 3 = 650, Punkt 4 = 920,

Aufgabe 2: Punkt 1 = 910, Punkt 2 = 430, Punkt 3 = 860, Punkt 4 = 560,

Aufgabe 3: Punkt 1 = 880, Punkt 2 = 720, Punkt 3 = 500, Punkt 4 = 300,

Aufgabe 4: Punkt 1 = 910, Punkt 2 = 570, Punkt 3 = 680, Punkt 4 = 610,