

Im Zahlenbereich bis max. 1000.

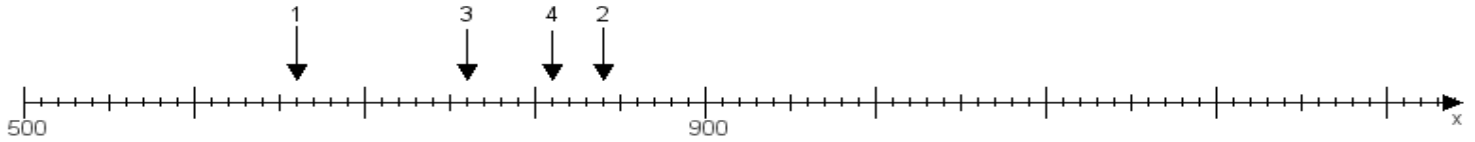
Name:

Klasse:

Datum:

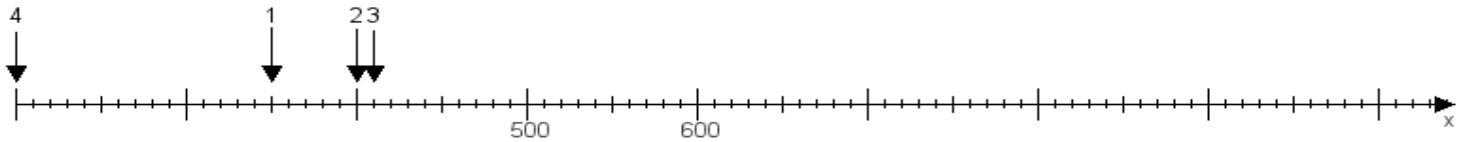
Aufgabe 1:

Ermittle die Werte von den Punkten 1 bis 4.



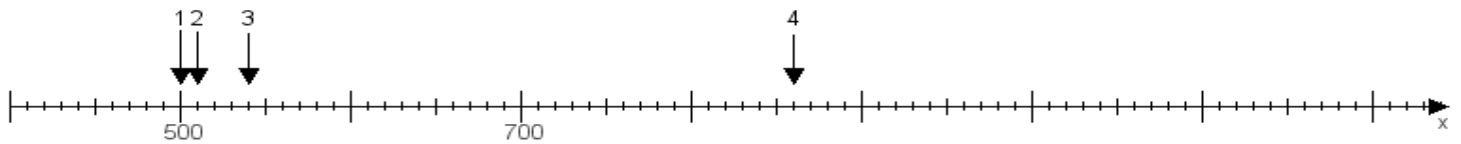
Aufgabe 2:

Ermittle die Werte von den Punkten 1 bis 4.



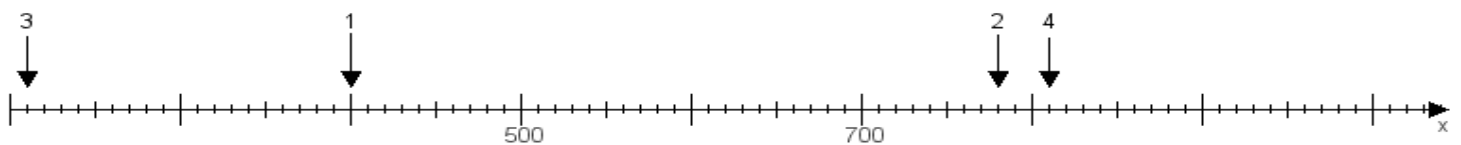
Aufgabe 3:

Ermittle die Werte von den Punkten 1 bis 4.



Aufgabe 4:

Ermittle die Werte von den Punkten 1 bis 4.



www.das-bastelteam.de -> Zahlenstrahl mit 4 Punkten. Blatt Nr.:311
Lösungen:

Aufgabe 1: Punkt 1 = 660, Punkt 2 = 840, Punkt 3 = 760, Punkt 4 = 810,

Aufgabe 2: Punkt 1 = 350, Punkt 2 = 400, Punkt 3 = 410, Punkt 4 = 200,

Aufgabe 3: Punkt 1 = 500, Punkt 2 = 510, Punkt 3 = 540, Punkt 4 = 860,

Aufgabe 4: Punkt 1 = 400, Punkt 2 = 780, Punkt 3 = 210, Punkt 4 = 810,