

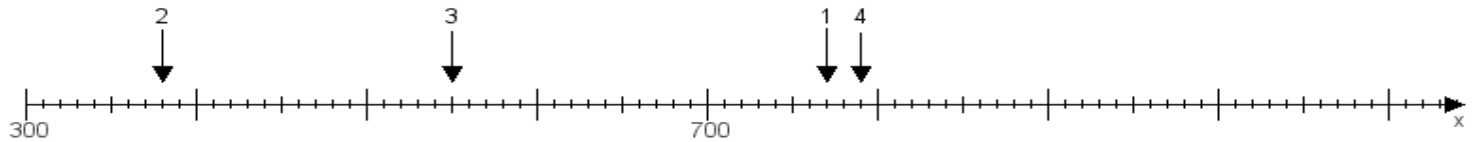
Name:

Klasse:

Datum:

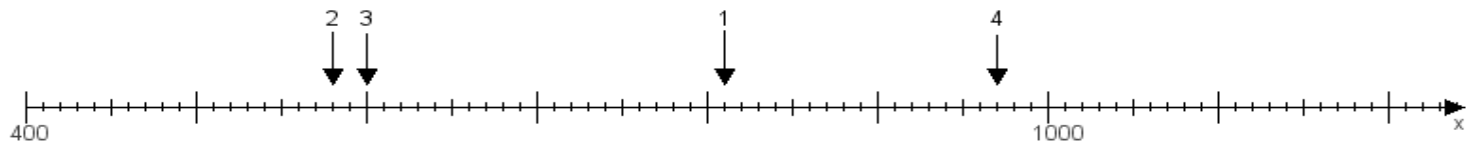
Aufgabe 1:

Ermittle die Werte von den Punkten 1 bis 4.



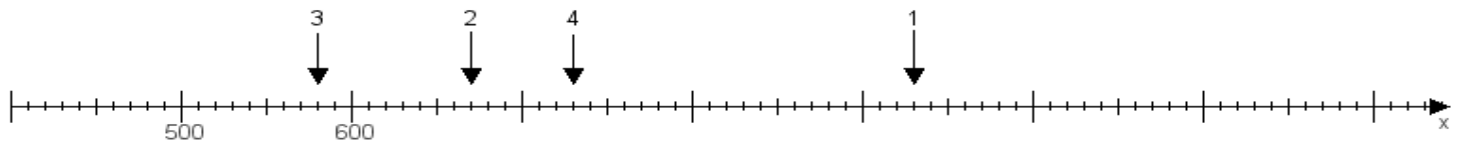
Aufgabe 2:

Ermittle die Werte von den Punkten 1 bis 4.



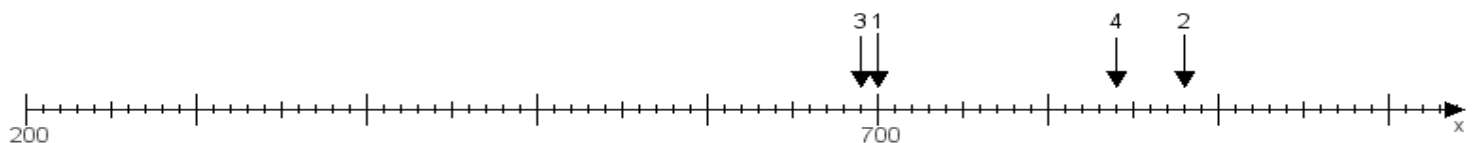
Aufgabe 3:

Ermittle die Werte von den Punkten 1 bis 4.



Aufgabe 4:

Ermittle die Werte von den Punkten 1 bis 4.



www.das-bastelteam.de -> Zahlenstrahl mit 4 Punkten. Blatt Nr.:310
Lösungen:

Aufgabe 1: Punkt 1 = 770, Punkt 2 = 380, Punkt 3 = 550, Punkt 4 = 790,

Aufgabe 2: Punkt 1 = 810, Punkt 2 = 580, Punkt 3 = 600, Punkt 4 = 970,

Aufgabe 3: Punkt 1 = 930, Punkt 2 = 670, Punkt 3 = 580, Punkt 4 = 730,

Aufgabe 4: Punkt 1 = 700, Punkt 2 = 880, Punkt 3 = 690, Punkt 4 = 840,