

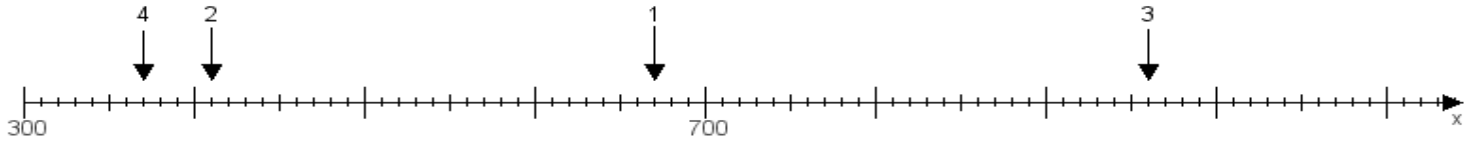
Name:

Klasse:

Datum:

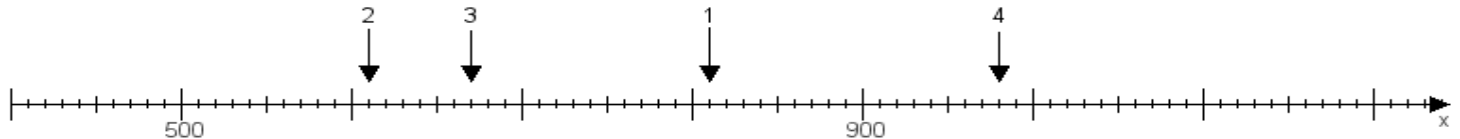
**Aufgabe 1:**

Ermittle die Werte von den Punkten 1 bis 4.



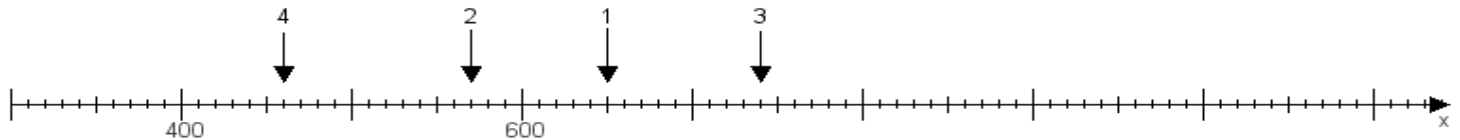
**Aufgabe 2:**

Ermittle die Werte von den Punkten 1 bis 4.



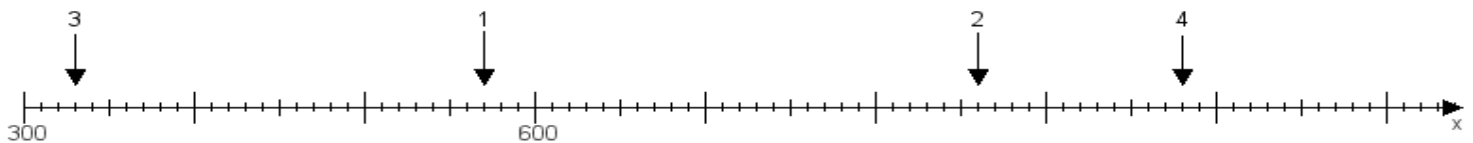
**Aufgabe 3:**

Ermittle die Werte von den Punkten 1 bis 4.



**Aufgabe 4:**

Ermittle die Werte von den Punkten 1 bis 4.



[www.das-bastelteam.de](http://www.das-bastelteam.de) -> Zahlenstrahl mit 4 Punkten. Blatt Nr.:309  
Lösungen:

Aufgabe 1: Punkt 1 = 670, Punkt 2 = 410, Punkt 3 = 960, Punkt 4 = 370,

Aufgabe 2: Punkt 1 = 810, Punkt 2 = 610, Punkt 3 = 670, Punkt 4 = 980,

Aufgabe 3: Punkt 1 = 650, Punkt 2 = 570, Punkt 3 = 740, Punkt 4 = 460,

Aufgabe 4: Punkt 1 = 570, Punkt 2 = 860, Punkt 3 = 330, Punkt 4 = 980,