

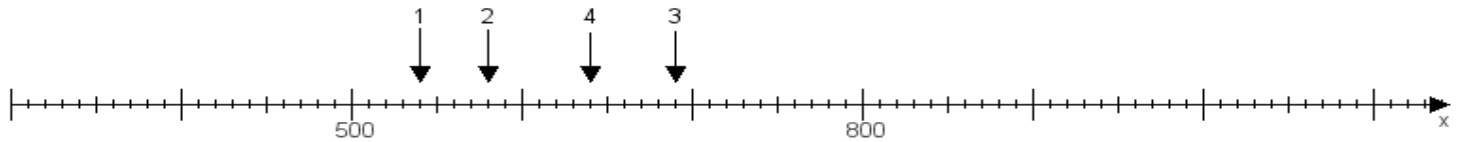
Name:

Klasse:

Datum:

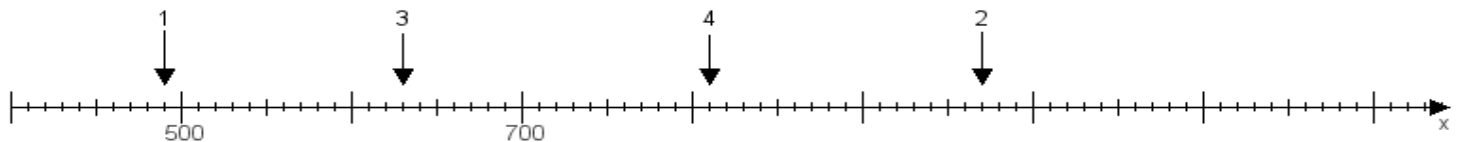
Aufgabe 1:

Ermittle die Werte von den Punkten 1 bis 4.



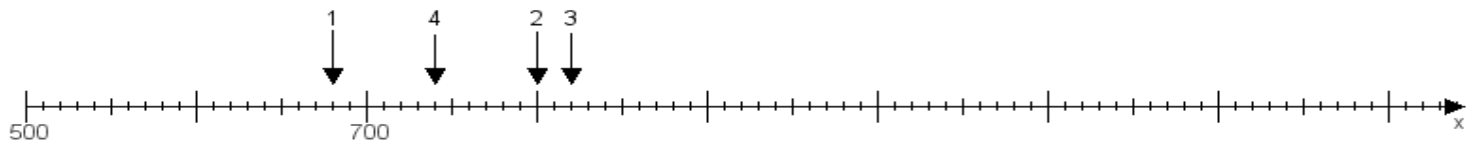
Aufgabe 2:

Ermittle die Werte von den Punkten 1 bis 4.



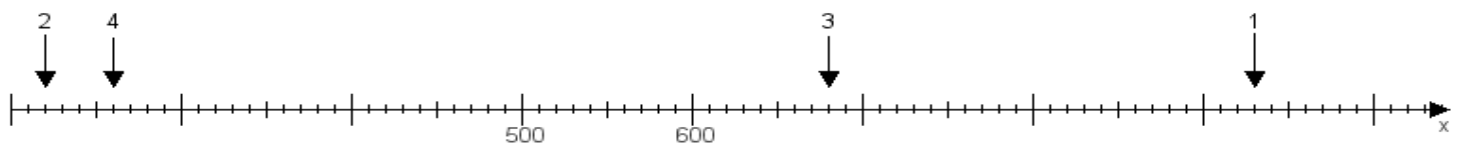
Aufgabe 3:

Ermittle die Werte von den Punkten 1 bis 4.



Aufgabe 4:

Ermittle die Werte von den Punkten 1 bis 4.



www.das-bastelteam.de -> Zahlenstrahl mit 4 Punkten. Blatt Nr.:307
Lösungen:

Aufgabe 1: Punkt 1 = 540, Punkt 2 = 580, Punkt 3 = 690, Punkt 4 = 640,

Aufgabe 2: Punkt 1 = 490, Punkt 2 = 970, Punkt 3 = 630, Punkt 4 = 810,

Aufgabe 3: Punkt 1 = 680, Punkt 2 = 800, Punkt 3 = 820, Punkt 4 = 740,

Aufgabe 4: Punkt 1 = 930, Punkt 2 = 220, Punkt 3 = 680, Punkt 4 = 260,