

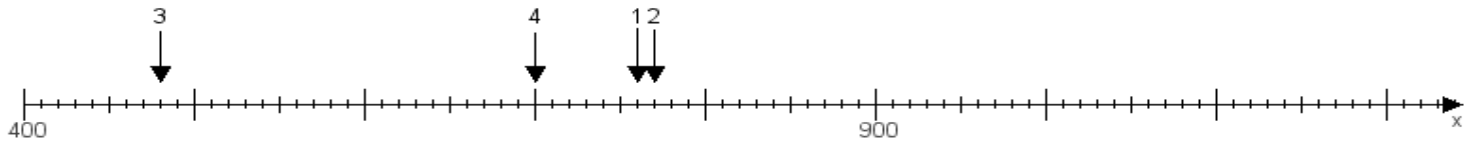
Name:

Klasse:

Datum:

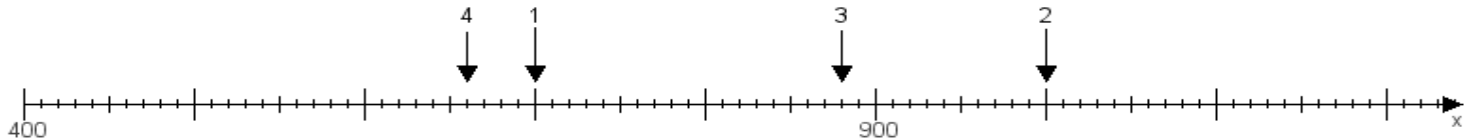
Aufgabe 1:

Ermittle die Werte von den Punkten 1 bis 4.



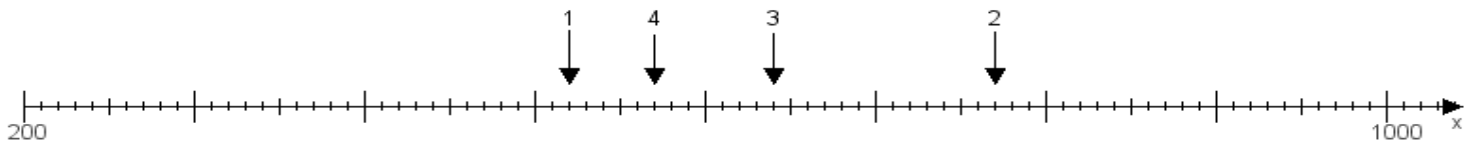
Aufgabe 2:

Ermittle die Werte von den Punkten 1 bis 4.



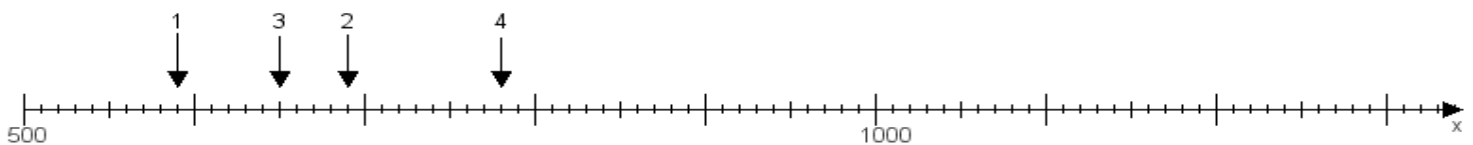
Aufgabe 3:

Ermittle die Werte von den Punkten 1 bis 4.



Aufgabe 4:

Ermittle die Werte von den Punkten 1 bis 4.



www.das-bastelteam.de -> Zahlenstrahl mit 4 Punkten. Blatt Nr.:306
Lösungen:

Aufgabe 1: Punkt 1 = 760, Punkt 2 = 770, Punkt 3 = 480, Punkt 4 = 700,

Aufgabe 2: Punkt 1 = 700, Punkt 2 = 1000, Punkt 3 = 880, Punkt 4 = 660,

Aufgabe 3: Punkt 1 = 520, Punkt 2 = 770, Punkt 3 = 640, Punkt 4 = 570,

Aufgabe 4: Punkt 1 = 590, Punkt 2 = 690, Punkt 3 = 650, Punkt 4 = 780,