

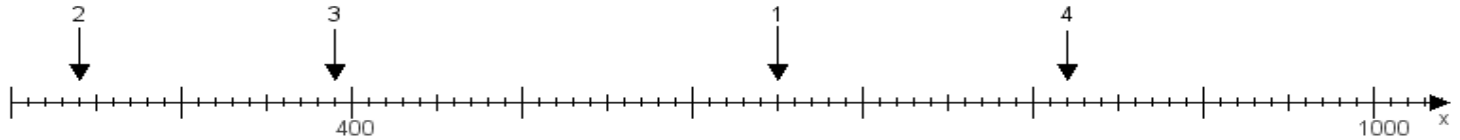
Name:

Klasse:

Datum:

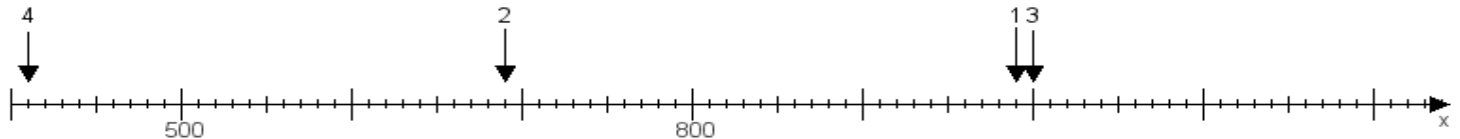
Aufgabe 1:

Ermittle die Werte von den Punkten 1 bis 4.



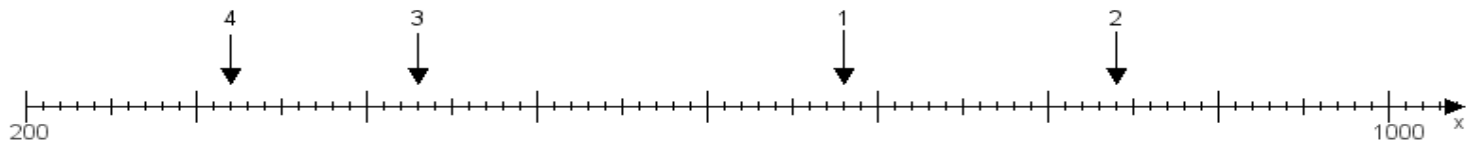
Aufgabe 2:

Ermittle die Werte von den Punkten 1 bis 4.



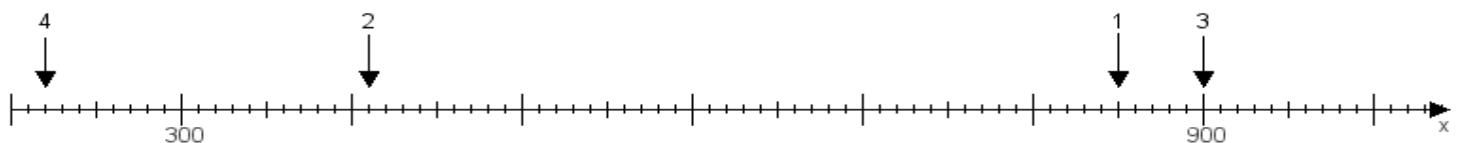
Aufgabe 3:

Ermittle die Werte von den Punkten 1 bis 4.



Aufgabe 4:

Ermittle die Werte von den Punkten 1 bis 4.



www.das-bastelteam.de -> Zahlenstrahl mit 4 Punkten. Blatt Nr.:304
Lösungen:

Aufgabe 1: Punkt 1 = 650, Punkt 2 = 240, Punkt 3 = 390, Punkt 4 = 820,

Aufgabe 2: Punkt 1 = 990, Punkt 2 = 690, Punkt 3 = 1000, Punkt 4 = 410,

Aufgabe 3: Punkt 1 = 680, Punkt 2 = 840, Punkt 3 = 430, Punkt 4 = 320,

Aufgabe 4: Punkt 1 = 850, Punkt 2 = 410, Punkt 3 = 900, Punkt 4 = 220,