

Im Zahlenbereich bis max. 1000.

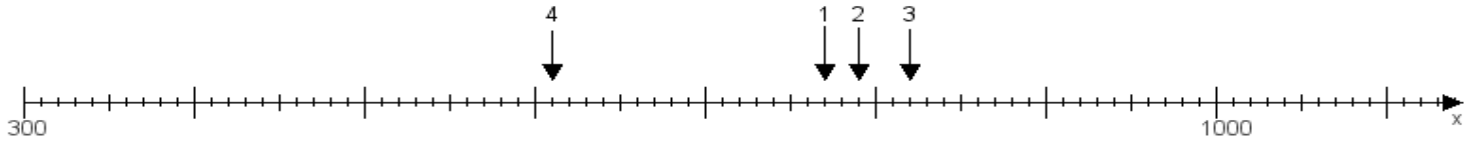
Name:

Klasse:

Datum:

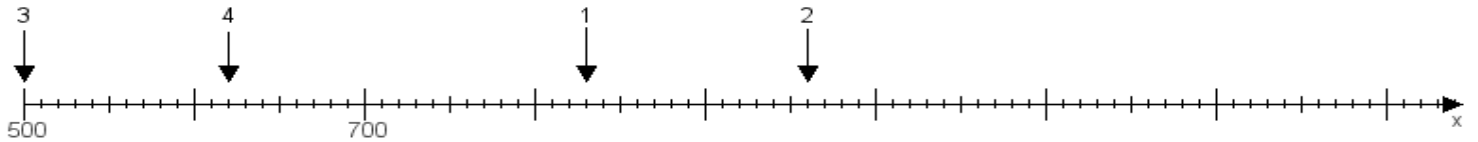
Aufgabe 1:

Ermittle die Werte von den Punkten 1 bis 4.



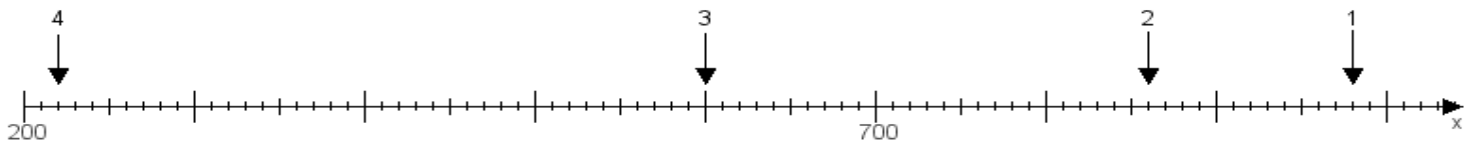
Aufgabe 2:

Ermittle die Werte von den Punkten 1 bis 4.



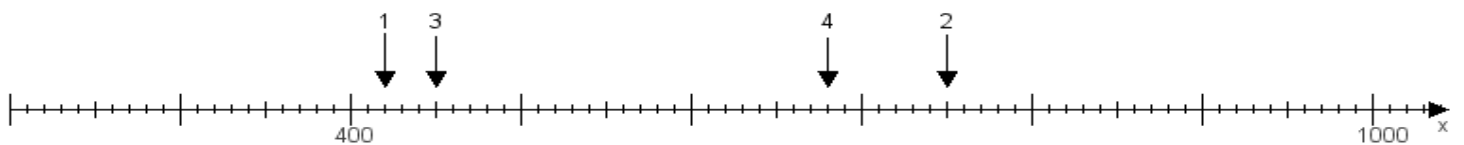
Aufgabe 3:

Ermittle die Werte von den Punkten 1 bis 4.



Aufgabe 4:

Ermittle die Werte von den Punkten 1 bis 4.



www.das-bastelteam.de -> Zahlenstrahl mit 4 Punkten. Blatt Nr.:300
Lösungen:

Aufgabe 1: Punkt 1 = 770, Punkt 2 = 790, Punkt 3 = 820, Punkt 4 = 610,

Aufgabe 2: Punkt 1 = 830, Punkt 2 = 960, Punkt 3 = 500, Punkt 4 = 620,

Aufgabe 3: Punkt 1 = 980, Punkt 2 = 860, Punkt 3 = 600, Punkt 4 = 220,

Aufgabe 4: Punkt 1 = 420, Punkt 2 = 750, Punkt 3 = 450, Punkt 4 = 680,

www.bin-dann-weg.de -> Ferienwohnungen und Ferienhäuser.

www.kleinanzeigen-und-annoncen.de -> Kostenlose Kleinanzeigen deutschlandweit.