

Im Zahlenbereich bis max. 1000.

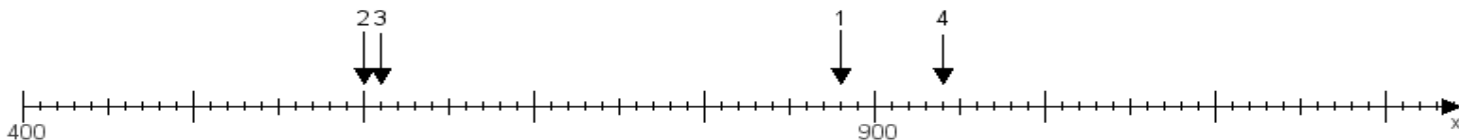
Name:

Klasse:

Datum:

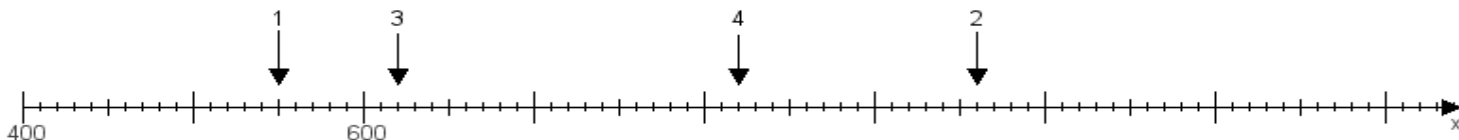
Aufgabe 1:

Ermittle die Werte von den Punkten 1 bis 4.



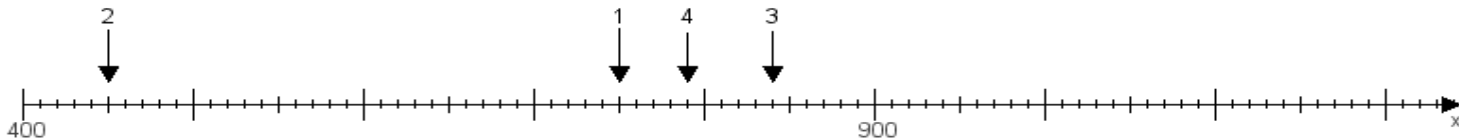
Aufgabe 2:

Ermittle die Werte von den Punkten 1 bis 4.



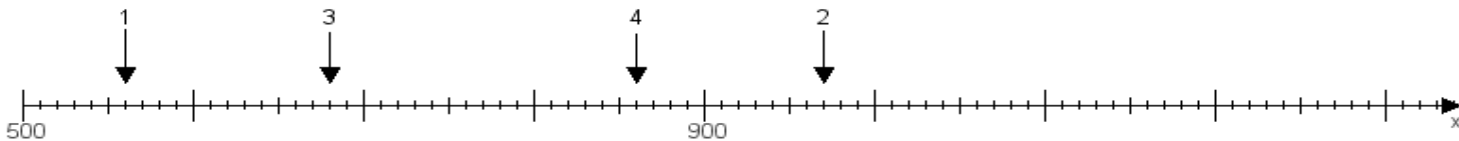
Aufgabe 3:

Ermittle die Werte von den Punkten 1 bis 4.



Aufgabe 4:

Ermittle die Werte von den Punkten 1 bis 4.



www.das-bastelteam.de -> Zahlenstrahl mit 4 Punkten. Blatt Nr.:299
Lösungen:

Aufgabe 1: Punkt 1 = 880, Punkt 2 = 600, Punkt 3 = 610, Punkt 4 = 940,

Aufgabe 2: Punkt 1 = 550, Punkt 2 = 960, Punkt 3 = 620, Punkt 4 = 820,

Aufgabe 3: Punkt 1 = 750, Punkt 2 = 450, Punkt 3 = 840, Punkt 4 = 790,

Aufgabe 4: Punkt 1 = 560, Punkt 2 = 970, Punkt 3 = 680, Punkt 4 = 860,