

Im Zahlenbereich bis max. 1000.

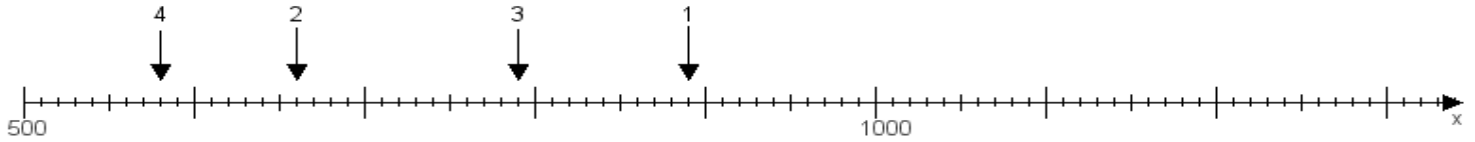
Name:

Klasse:

Datum:

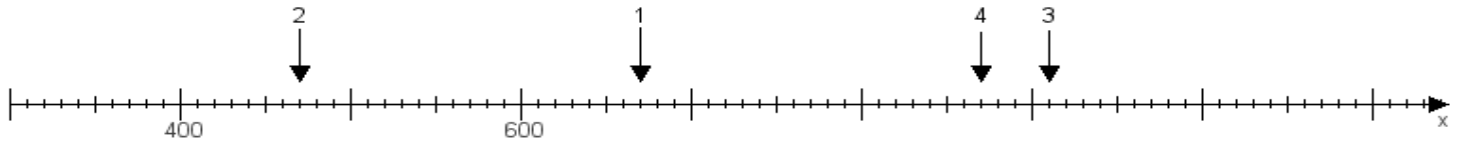
Aufgabe 1:

Ermittle die Werte von den Punkten 1 bis 4.



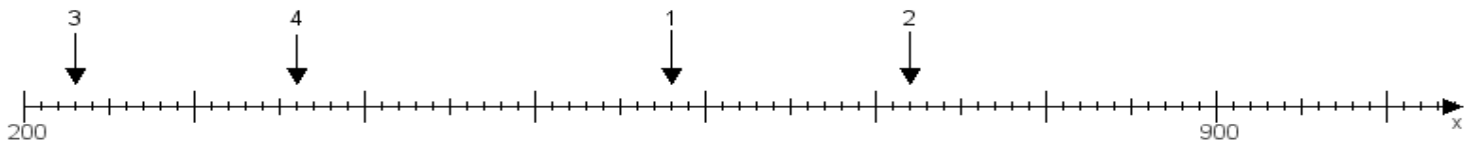
Aufgabe 2:

Ermittle die Werte von den Punkten 1 bis 4.



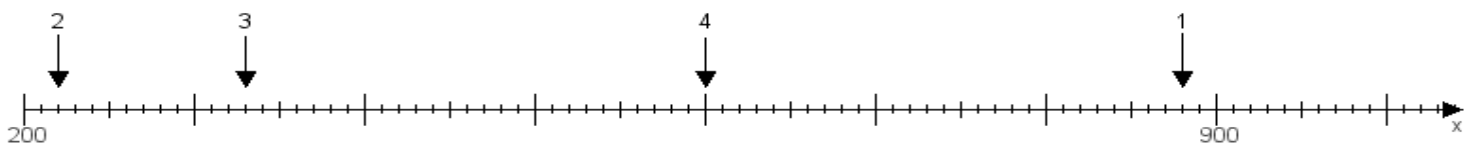
Aufgabe 3:

Ermittle die Werte von den Punkten 1 bis 4.



Aufgabe 4:

Ermittle die Werte von den Punkten 1 bis 4.



www.das-bastelteam.de -> Zahlenstrahl mit 4 Punkten. Blatt Nr.:297
Lösungen:

Aufgabe 1: Punkt 1 = 890, Punkt 2 = 660, Punkt 3 = 790, Punkt 4 = 580,

Aufgabe 2: Punkt 1 = 670, Punkt 2 = 470, Punkt 3 = 910, Punkt 4 = 870,

Aufgabe 3: Punkt 1 = 580, Punkt 2 = 720, Punkt 3 = 230, Punkt 4 = 360,

Aufgabe 4: Punkt 1 = 880, Punkt 2 = 220, Punkt 3 = 330, Punkt 4 = 600,