

Im Zahlenbereich bis max. 1000.

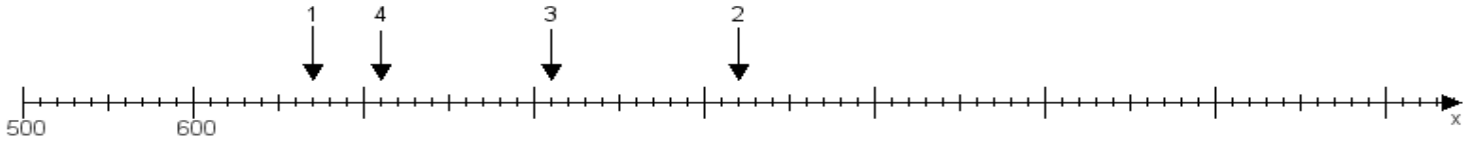
Name:

Klasse:

Datum:

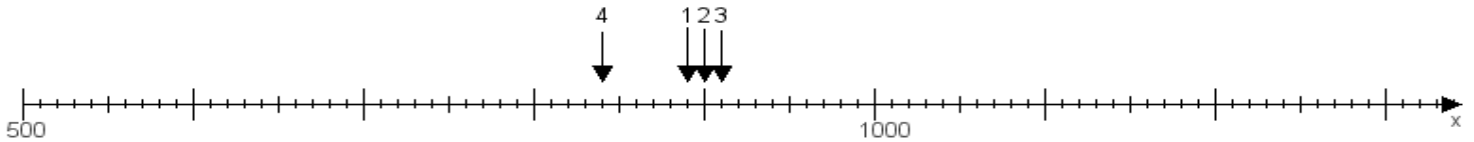
Aufgabe 1:

Ermittle die Werte von den Punkten 1 bis 4.



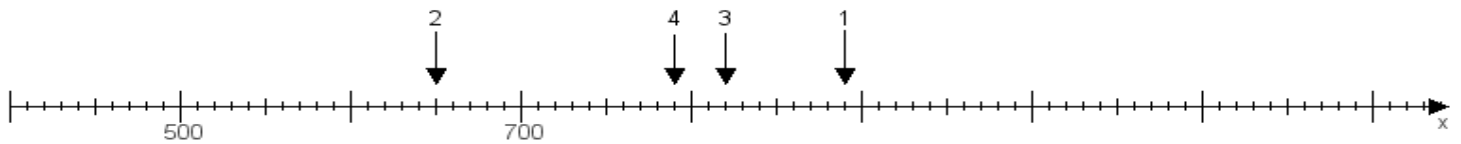
Aufgabe 2:

Ermittle die Werte von den Punkten 1 bis 4.



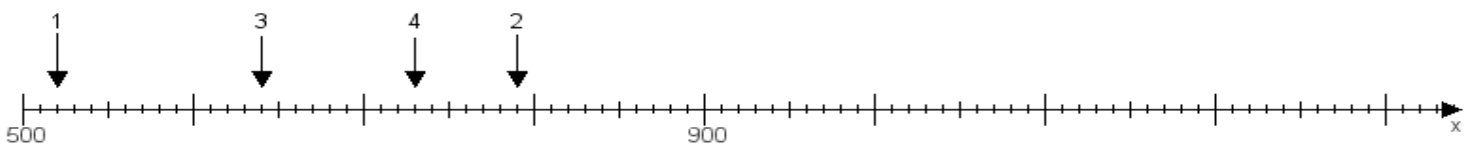
Aufgabe 3:

Ermittle die Werte von den Punkten 1 bis 4.



Aufgabe 4:

Ermittle die Werte von den Punkten 1 bis 4.



www.das-bastelteam.de -> Zahlenstrahl mit 4 Punkten. Blatt Nr.:294
Lösungen:

Aufgabe 1: Punkt 1 = 670, Punkt 2 = 920, Punkt 3 = 810, Punkt 4 = 710,

Aufgabe 2: Punkt 1 = 890, Punkt 2 = 900, Punkt 3 = 910, Punkt 4 = 840,

Aufgabe 3: Punkt 1 = 890, Punkt 2 = 650, Punkt 3 = 820, Punkt 4 = 790,

Aufgabe 4: Punkt 1 = 520, Punkt 2 = 790, Punkt 3 = 640, Punkt 4 = 730,

www.bin-dann-weg.de -> Ferienwohnungen und Ferienhäuser.

www.kleinanzeigen-und-annoncen.de -> Kostenlose Kleinanzeigen deutschlandweit.