

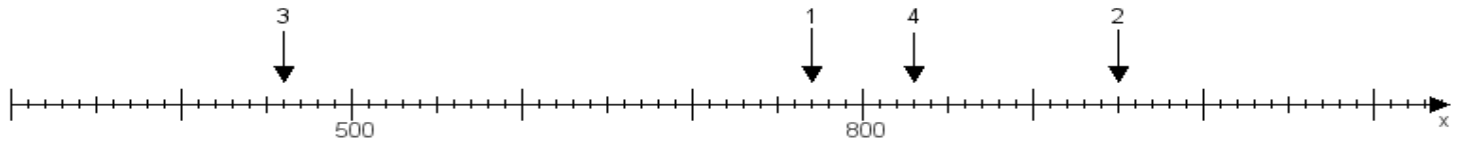
Name:

Klasse:

Datum:

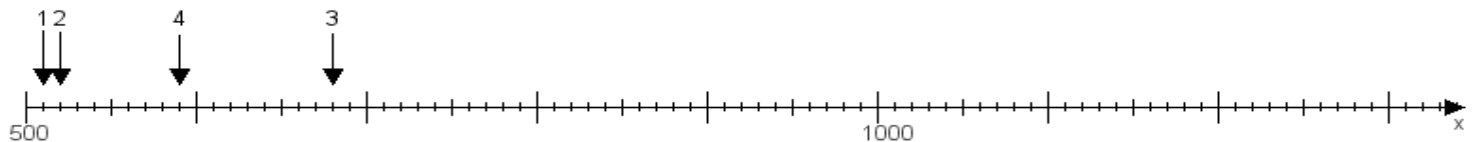
Aufgabe 1:

Ermittle die Werte von den Punkten 1 bis 4.



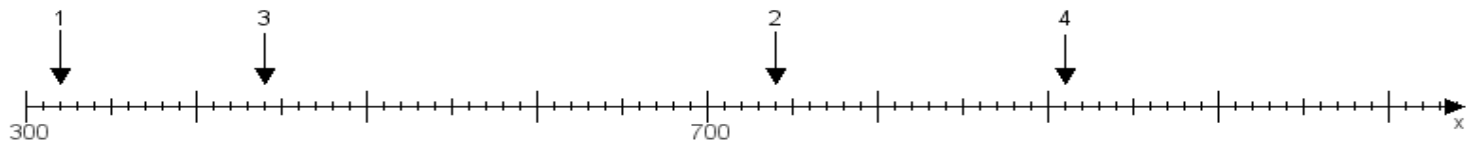
Aufgabe 2:

Ermittle die Werte von den Punkten 1 bis 4.



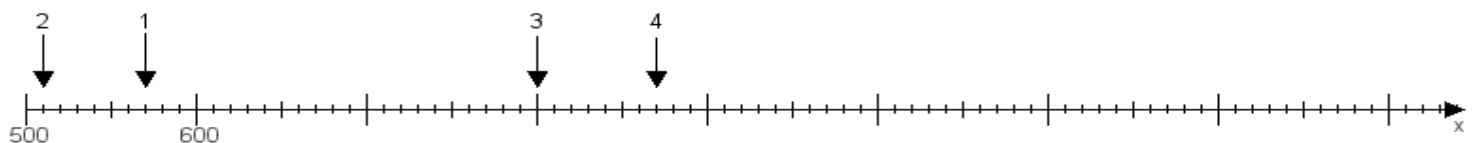
Aufgabe 3:

Ermittle die Werte von den Punkten 1 bis 4.



Aufgabe 4:

Ermittle die Werte von den Punkten 1 bis 4.



www.das-bastelteam.de -> Zahlenstrahl mit 4 Punkten. Blatt Nr.:293
Lösungen:

Aufgabe 1: Punkt 1 = 770, Punkt 2 = 950, Punkt 3 = 460, Punkt 4 = 830,

Aufgabe 2: Punkt 1 = 510, Punkt 2 = 520, Punkt 3 = 680, Punkt 4 = 590,

Aufgabe 3: Punkt 1 = 320, Punkt 2 = 740, Punkt 3 = 440, Punkt 4 = 910,

Aufgabe 4: Punkt 1 = 570, Punkt 2 = 510, Punkt 3 = 800, Punkt 4 = 870,