

Im Zahlenbereich bis max. 1000.

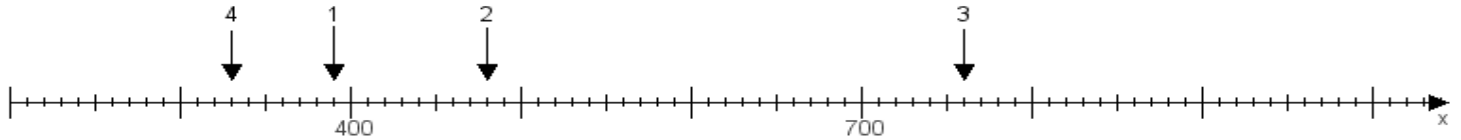
Name:

Klasse:

Datum:

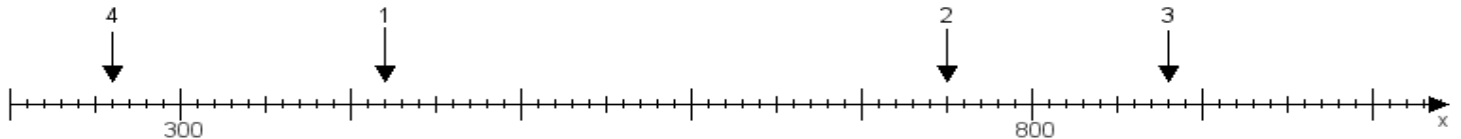
Aufgabe 1:

Ermittle die Werte von den Punkten 1 bis 4.



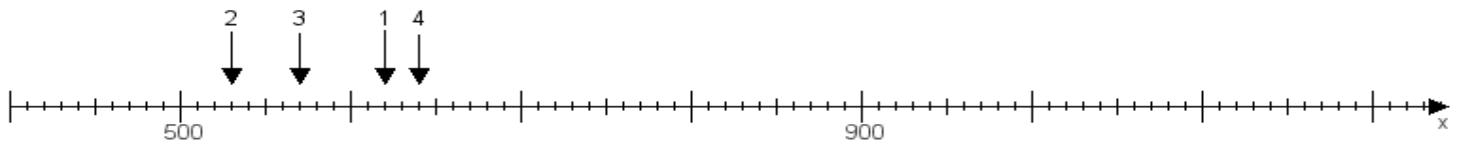
Aufgabe 2:

Ermittle die Werte von den Punkten 1 bis 4.



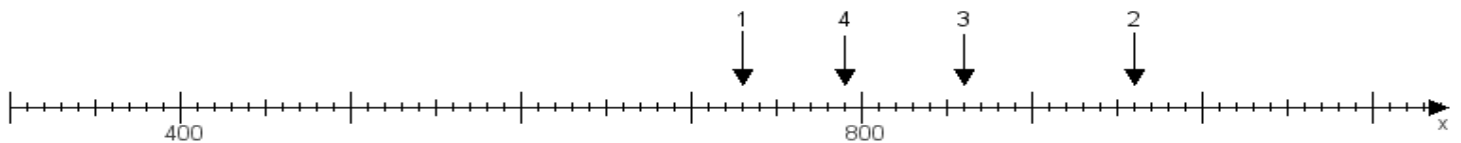
Aufgabe 3:

Ermittle die Werte von den Punkten 1 bis 4.



Aufgabe 4:

Ermittle die Werte von den Punkten 1 bis 4.



www.das-bastelteam.de -> Zahlenstrahl mit 4 Punkten. Blatt Nr.:291
Lösungen:

Aufgabe 1: Punkt 1 = 390, Punkt 2 = 480, Punkt 3 = 760, Punkt 4 = 330,

Aufgabe 2: Punkt 1 = 420, Punkt 2 = 750, Punkt 3 = 880, Punkt 4 = 260,

Aufgabe 3: Punkt 1 = 620, Punkt 2 = 530, Punkt 3 = 570, Punkt 4 = 640,

Aufgabe 4: Punkt 1 = 730, Punkt 2 = 960, Punkt 3 = 860, Punkt 4 = 790,