

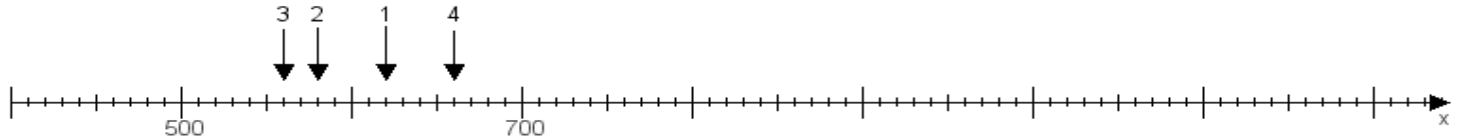
Name:

Klasse:

Datum:

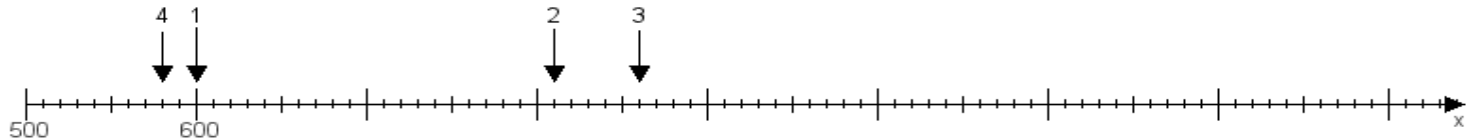
Aufgabe 1:

Ermittle die Werte von den Punkten 1 bis 4.



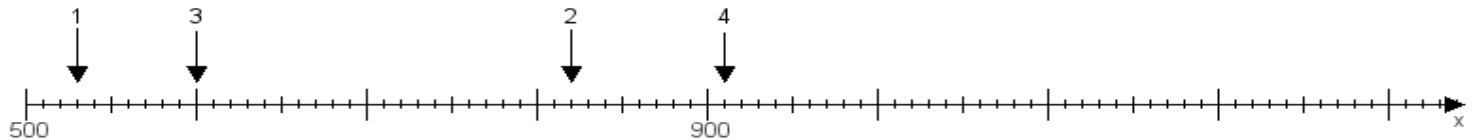
Aufgabe 2:

Ermittle die Werte von den Punkten 1 bis 4.



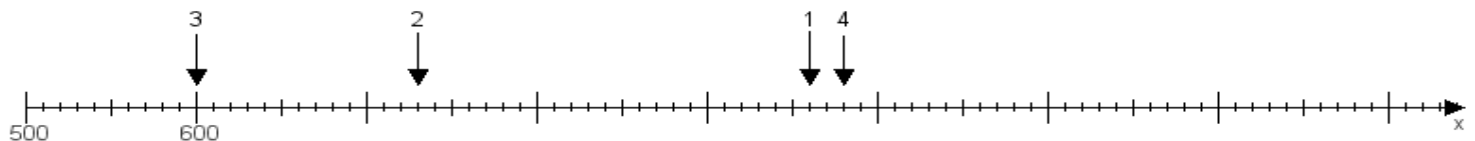
Aufgabe 3:

Ermittle die Werte von den Punkten 1 bis 4.



Aufgabe 4:

Ermittle die Werte von den Punkten 1 bis 4.



www.das-bastelteam.de -> Zahlenstrahl mit 4 Punkten. Blatt Nr.:290
Lösungen:

Aufgabe 1: Punkt 1 = 620, Punkt 2 = 580, Punkt 3 = 560, Punkt 4 = 660,

Aufgabe 2: Punkt 1 = 600, Punkt 2 = 810, Punkt 3 = 860, Punkt 4 = 580,

Aufgabe 3: Punkt 1 = 530, Punkt 2 = 820, Punkt 3 = 600, Punkt 4 = 910,

Aufgabe 4: Punkt 1 = 960, Punkt 2 = 730, Punkt 3 = 600, Punkt 4 = 980,