

Im Zahlenbereich bis max. 1000.

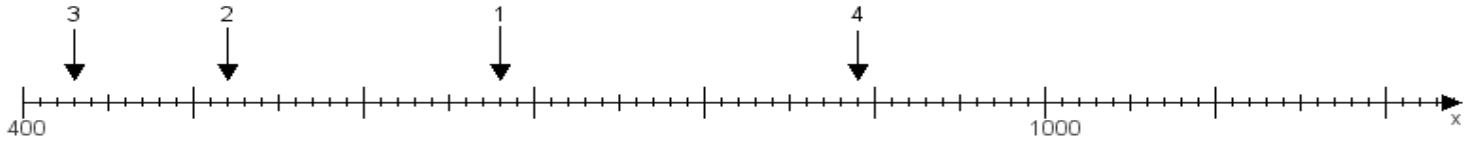
Name:

Klasse:

Datum:

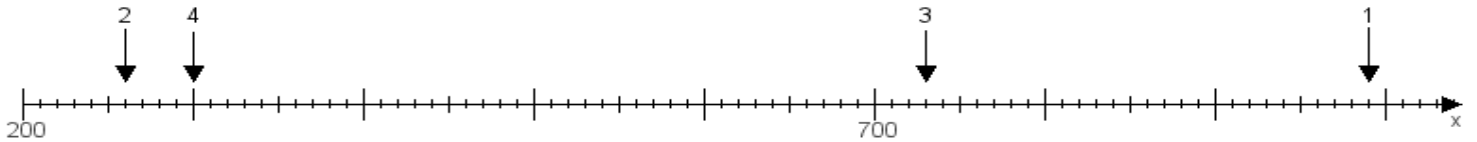
Aufgabe 1:

Ermittle die Werte von den Punkten 1 bis 4.



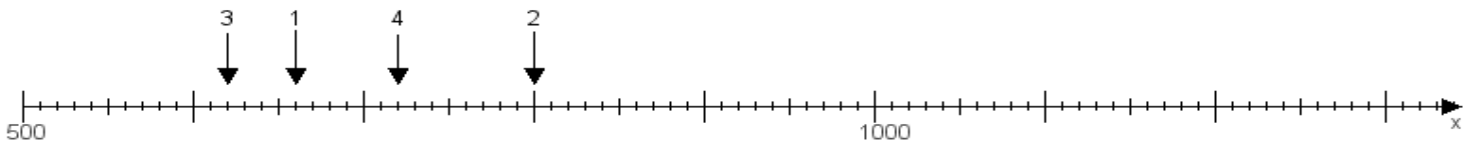
Aufgabe 2:

Ermittle die Werte von den Punkten 1 bis 4.



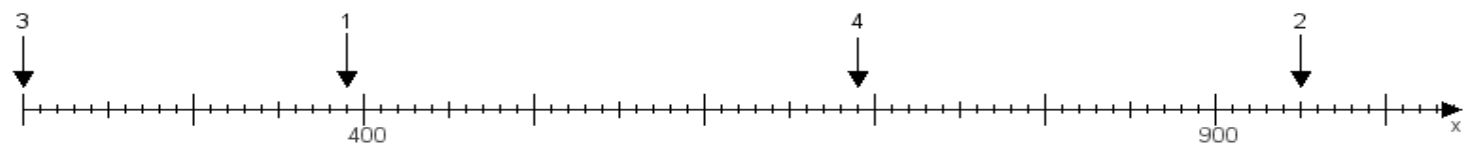
Aufgabe 3:

Ermittle die Werte von den Punkten 1 bis 4.



Aufgabe 4:

Ermittle die Werte von den Punkten 1 bis 4.



www.das-bastelteam.de -> Zahlenstrahl mit 4 Punkten. Blatt Nr.:287
Lösungen:

Aufgabe 1: Punkt 1 = 680, Punkt 2 = 520, Punkt 3 = 430, Punkt 4 = 890,

Aufgabe 2: Punkt 1 = 990, Punkt 2 = 260, Punkt 3 = 730, Punkt 4 = 300,

Aufgabe 3: Punkt 1 = 660, Punkt 2 = 800, Punkt 3 = 620, Punkt 4 = 720,

Aufgabe 4: Punkt 1 = 390, Punkt 2 = 950, Punkt 3 = 200, Punkt 4 = 690,