

Im Zahlenbereich bis max. 1000.

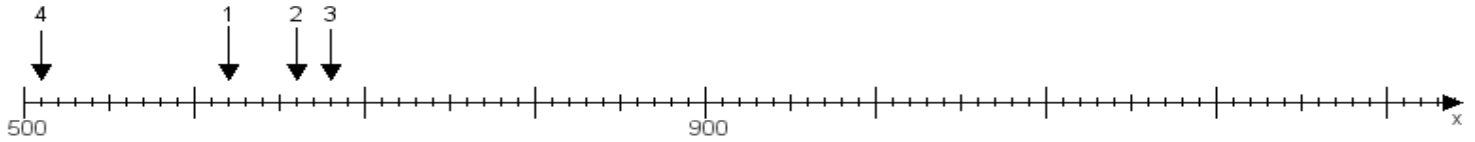
Name:

Klasse:

Datum:

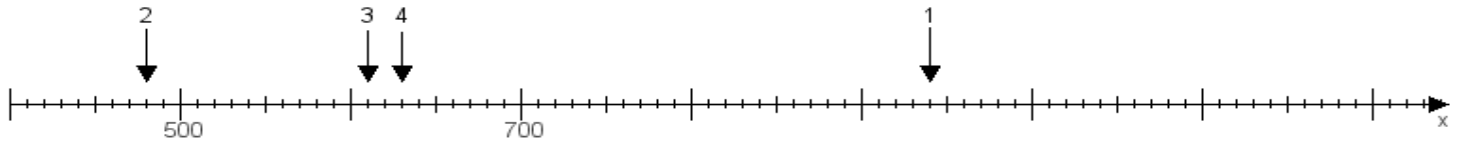
Aufgabe 1:

Ermittle die Werte von den Punkten 1 bis 4.



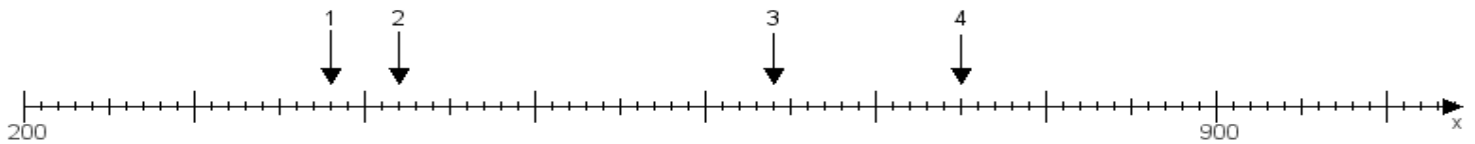
Aufgabe 2:

Ermittle die Werte von den Punkten 1 bis 4.



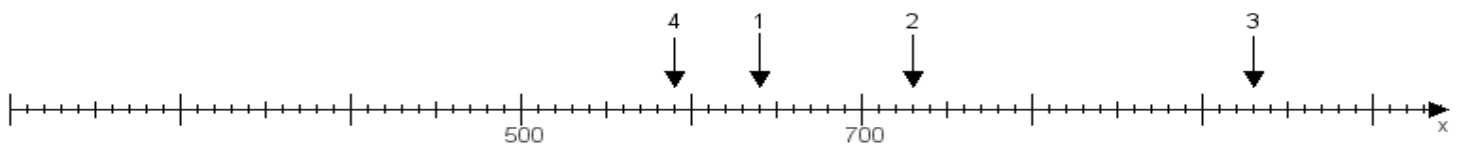
Aufgabe 3:

Ermittle die Werte von den Punkten 1 bis 4.



Aufgabe 4:

Ermittle die Werte von den Punkten 1 bis 4.



www.das-bastelteam.de -> Zahlenstrahl mit 4 Punkten. Blatt Nr.:285
Lösungen:

Aufgabe 1: Punkt 1 = 620, Punkt 2 = 660, Punkt 3 = 680, Punkt 4 = 510,

Aufgabe 2: Punkt 1 = 940, Punkt 2 = 480, Punkt 3 = 610, Punkt 4 = 630,

Aufgabe 3: Punkt 1 = 380, Punkt 2 = 420, Punkt 3 = 640, Punkt 4 = 750,

Aufgabe 4: Punkt 1 = 640, Punkt 2 = 730, Punkt 3 = 930, Punkt 4 = 590,