

Im Zahlenbereich bis max. 1000.

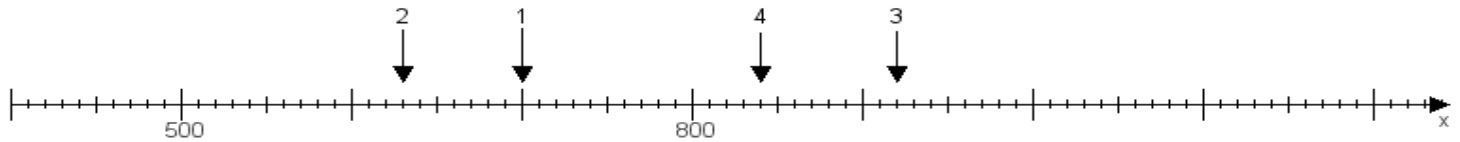
Name:

Klasse:

Datum:

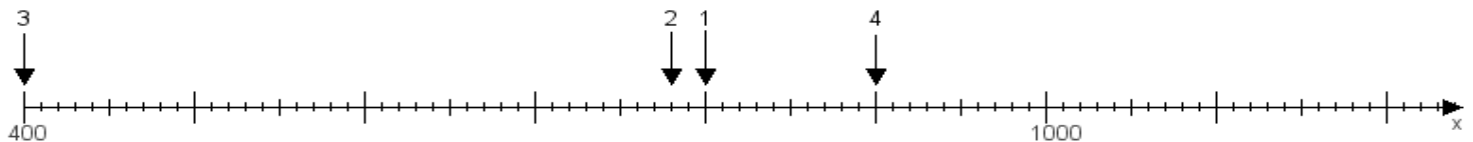
Aufgabe 1:

Ermittle die Werte von den Punkten 1 bis 4.



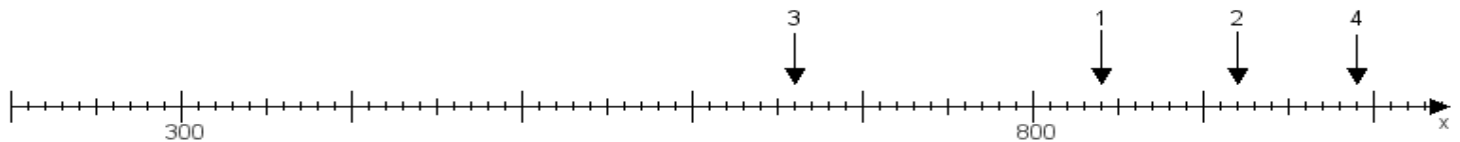
Aufgabe 2:

Ermittle die Werte von den Punkten 1 bis 4.



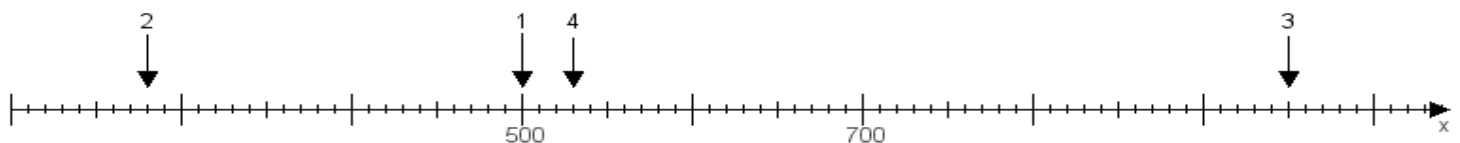
Aufgabe 3:

Ermittle die Werte von den Punkten 1 bis 4.



Aufgabe 4:

Ermittle die Werte von den Punkten 1 bis 4.



www.das-bastelteam.de -> Zahlenstrahl mit 4 Punkten. Blatt Nr.:281
Lösungen:

Aufgabe 1: Punkt 1 = 700, Punkt 2 = 630, Punkt 3 = 920, Punkt 4 = 840,

Aufgabe 2: Punkt 1 = 800, Punkt 2 = 780, Punkt 3 = 400, Punkt 4 = 900,

Aufgabe 3: Punkt 1 = 840, Punkt 2 = 920, Punkt 3 = 660, Punkt 4 = 990,

Aufgabe 4: Punkt 1 = 500, Punkt 2 = 280, Punkt 3 = 950, Punkt 4 = 530,