

Im Zahlenbereich bis max. 1000.

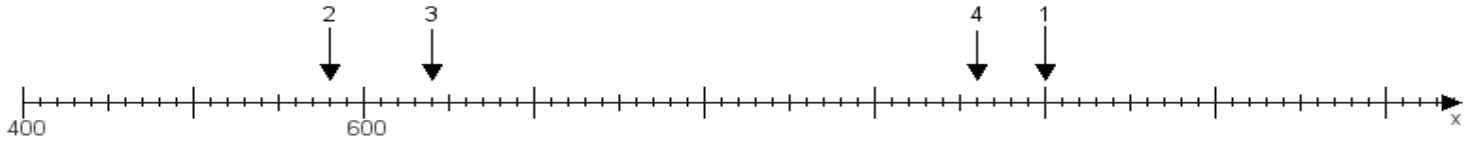
Name:

Klasse:

Datum:

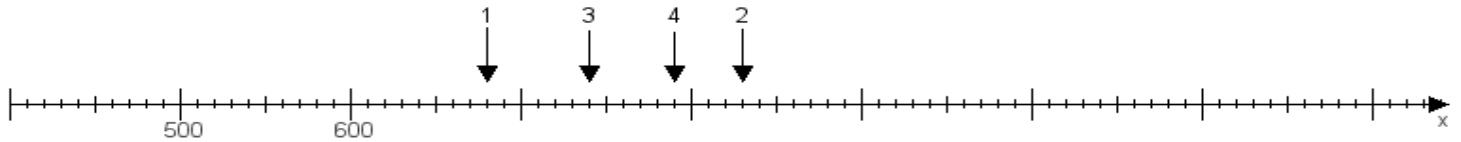
Aufgabe 1:

Ermittle die Werte von den Punkten 1 bis 4.



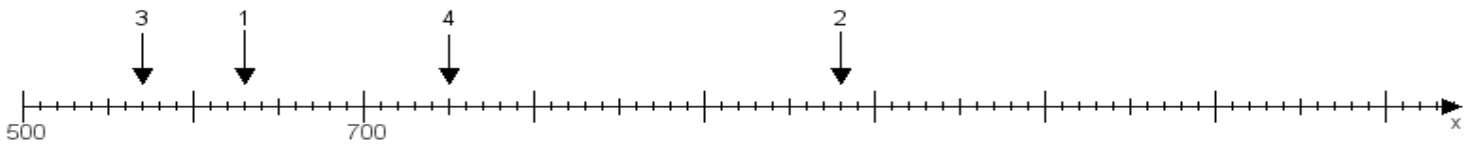
Aufgabe 2:

Ermittle die Werte von den Punkten 1 bis 4.



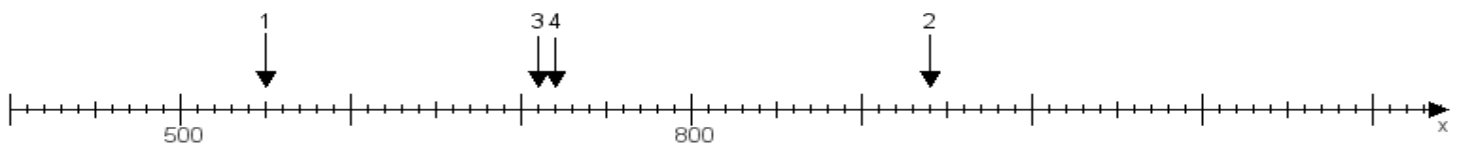
Aufgabe 3:

Ermittle die Werte von den Punkten 1 bis 4.



Aufgabe 4:

Ermittle die Werte von den Punkten 1 bis 4.



www.das-bastelteam.de -> Zahlenstrahl mit 4 Punkten. Blatt Nr.:279
Lösungen:

Aufgabe 1: Punkt 1 = 1000, Punkt 2 = 580, Punkt 3 = 640, Punkt 4 = 960,

Aufgabe 2: Punkt 1 = 680, Punkt 2 = 830, Punkt 3 = 740, Punkt 4 = 790,

Aufgabe 3: Punkt 1 = 630, Punkt 2 = 980, Punkt 3 = 570, Punkt 4 = 750,

Aufgabe 4: Punkt 1 = 550, Punkt 2 = 940, Punkt 3 = 710, Punkt 4 = 720,