

Im Zahlenbereich bis max. 1000.

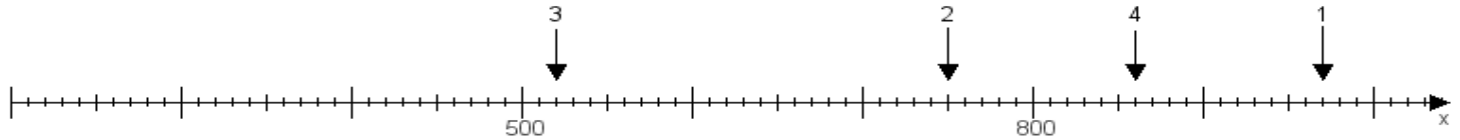
Name:

Klasse:

Datum:

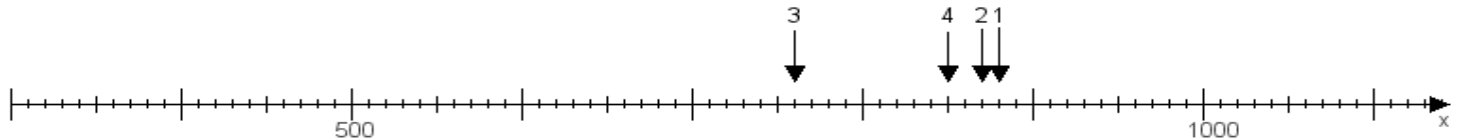
**Aufgabe 1:**

Ermittle die Werte von den Punkten 1 bis 4.



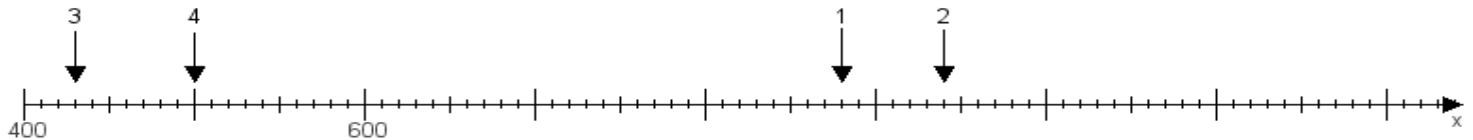
**Aufgabe 2:**

Ermittle die Werte von den Punkten 1 bis 4.



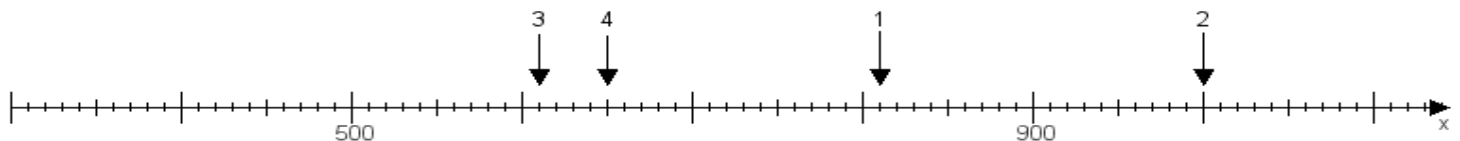
**Aufgabe 3:**

Ermittle die Werte von den Punkten 1 bis 4.



**Aufgabe 4:**

Ermittle die Werte von den Punkten 1 bis 4.



[www.das-bastelteam.de](http://www.das-bastelteam.de) -> Zahlenstrahl mit 4 Punkten. Blatt Nr.:278  
Lösungen:

Aufgabe 1: Punkt 1 = 970, Punkt 2 = 750, Punkt 3 = 520, Punkt 4 = 860,

Aufgabe 2: Punkt 1 = 880, Punkt 2 = 870, Punkt 3 = 760, Punkt 4 = 850,

Aufgabe 3: Punkt 1 = 880, Punkt 2 = 940, Punkt 3 = 430, Punkt 4 = 500,

Aufgabe 4: Punkt 1 = 810, Punkt 2 = 1000, Punkt 3 = 610, Punkt 4 = 650,