

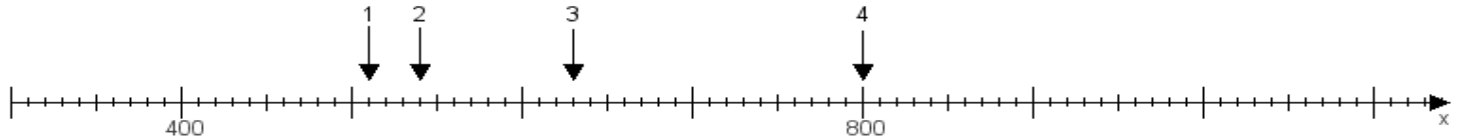
Name:

Klasse:

Datum:

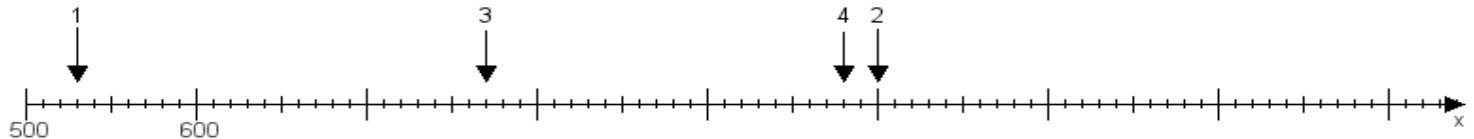
Aufgabe 1:

Ermittle die Werte von den Punkten 1 bis 4.



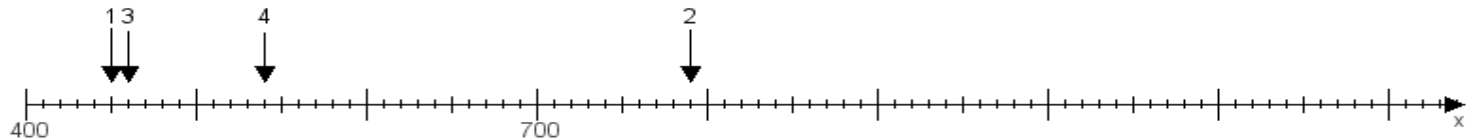
Aufgabe 2:

Ermittle die Werte von den Punkten 1 bis 4.



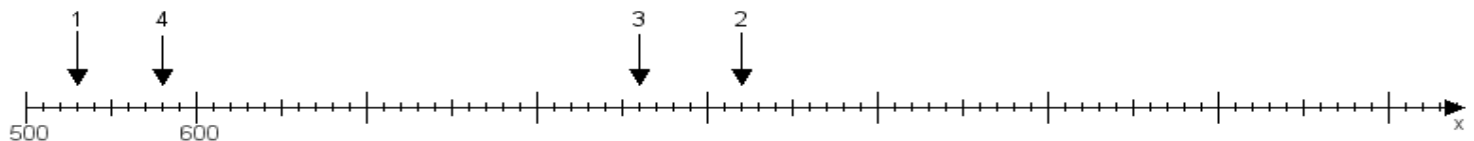
Aufgabe 3:

Ermittle die Werte von den Punkten 1 bis 4.



Aufgabe 4:

Ermittle die Werte von den Punkten 1 bis 4.



www.das-bastelteam.de -> Zahlenstrahl mit 4 Punkten. Blatt Nr.:274
Lösungen:

Aufgabe 1: Punkt 1 = 510, Punkt 2 = 540, Punkt 3 = 630, Punkt 4 = 800,

Aufgabe 2: Punkt 1 = 530, Punkt 2 = 1000, Punkt 3 = 770, Punkt 4 = 980,

Aufgabe 3: Punkt 1 = 450, Punkt 2 = 790, Punkt 3 = 460, Punkt 4 = 540,

Aufgabe 4: Punkt 1 = 530, Punkt 2 = 920, Punkt 3 = 860, Punkt 4 = 580,