

Im Zahlenbereich bis max. 1000.

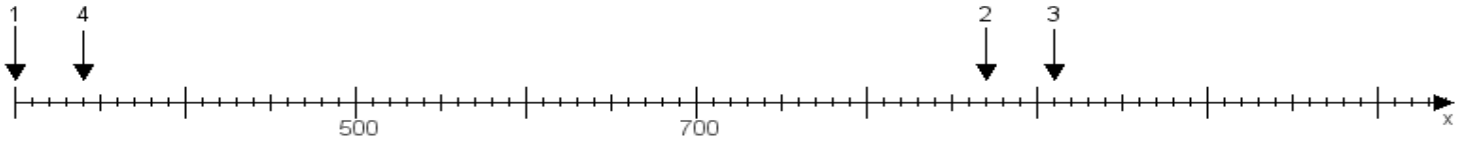
Name:

Klasse:

Datum:

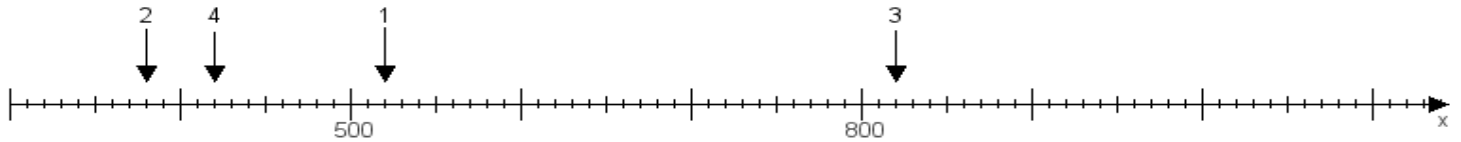
Aufgabe 1:

Ermittle die Werte von den Punkten 1 bis 4.



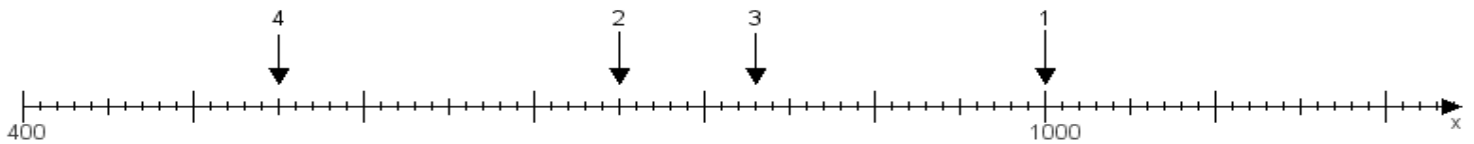
Aufgabe 2:

Ermittle die Werte von den Punkten 1 bis 4.



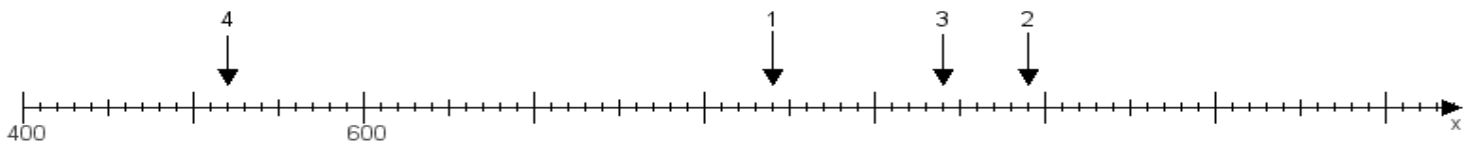
Aufgabe 3:

Ermittle die Werte von den Punkten 1 bis 4.



Aufgabe 4:

Ermittle die Werte von den Punkten 1 bis 4.



www.das-bastelteam.de -> Zahlenstrahl mit 4 Punkten. Blatt Nr.:272
Lösungen:

Aufgabe 1: Punkt 1 = 300, Punkt 2 = 870, Punkt 3 = 910, Punkt 4 = 340,

Aufgabe 2: Punkt 1 = 520, Punkt 2 = 380, Punkt 3 = 820, Punkt 4 = 420,

Aufgabe 3: Punkt 1 = 1000, Punkt 2 = 750, Punkt 3 = 830, Punkt 4 = 550,

Aufgabe 4: Punkt 1 = 840, Punkt 2 = 990, Punkt 3 = 940, Punkt 4 = 520,