

Im Zahlenbereich bis max. 1000.

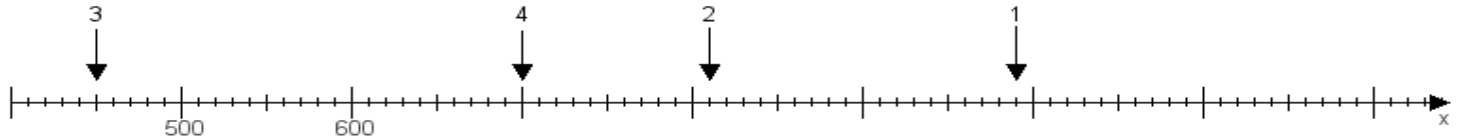
Name:

Klasse:

Datum:

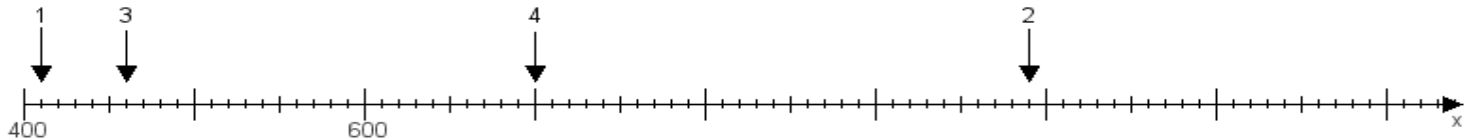
Aufgabe 1:

Ermittle die Werte von den Punkten 1 bis 4.



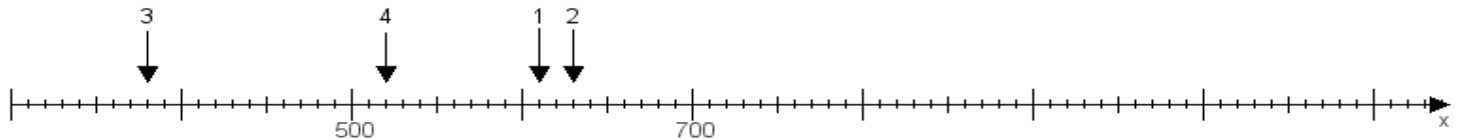
Aufgabe 2:

Ermittle die Werte von den Punkten 1 bis 4.



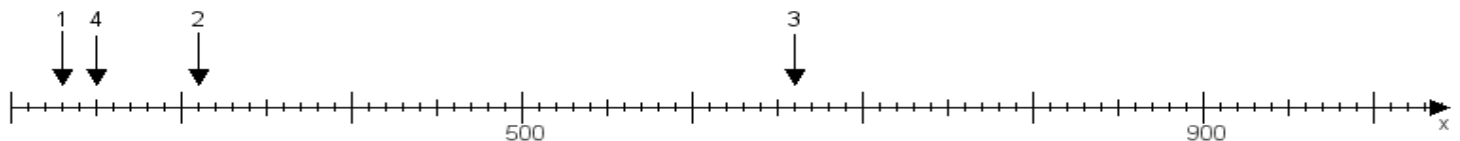
Aufgabe 3:

Ermittle die Werte von den Punkten 1 bis 4.



Aufgabe 4:

Ermittle die Werte von den Punkten 1 bis 4.



www.das-bastelteam.de -> Zahlenstrahl mit 4 Punkten. Blatt Nr.:271
Lösungen:

Aufgabe 1: Punkt 1 = 990, Punkt 2 = 810, Punkt 3 = 450, Punkt 4 = 700,

Aufgabe 2: Punkt 1 = 410, Punkt 2 = 990, Punkt 3 = 460, Punkt 4 = 700,

Aufgabe 3: Punkt 1 = 610, Punkt 2 = 630, Punkt 3 = 380, Punkt 4 = 520,

Aufgabe 4: Punkt 1 = 230, Punkt 2 = 310, Punkt 3 = 660, Punkt 4 = 250,