

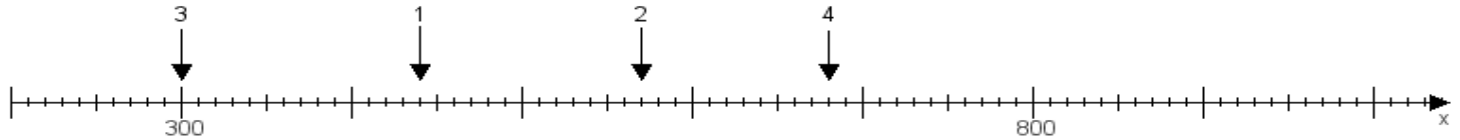
Name:

Klasse:

Datum:

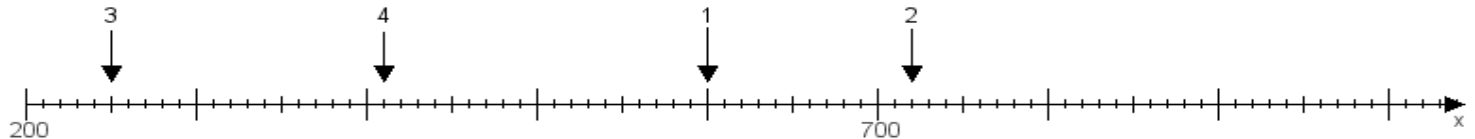
Aufgabe 1:

Ermittle die Werte von den Punkten 1 bis 4.



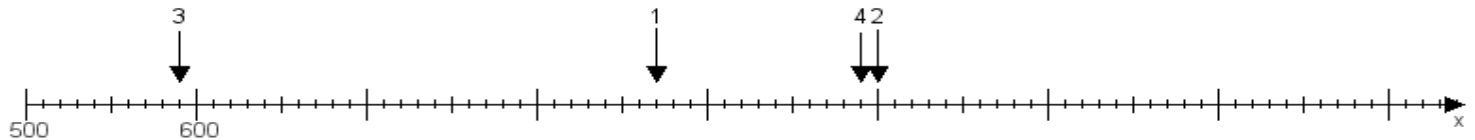
Aufgabe 2:

Ermittle die Werte von den Punkten 1 bis 4.



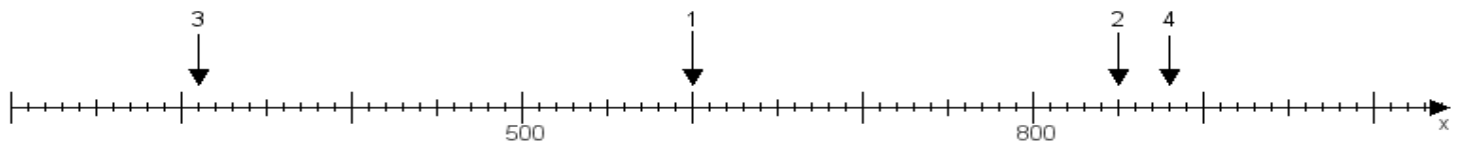
Aufgabe 3:

Ermittle die Werte von den Punkten 1 bis 4.



Aufgabe 4:

Ermittle die Werte von den Punkten 1 bis 4.



www.das-bastelteam.de -> Zahlenstrahl mit 4 Punkten. Blatt Nr.:270
Lösungen:

Aufgabe 1: Punkt 1 = 440, Punkt 2 = 570, Punkt 3 = 300, Punkt 4 = 680,

Aufgabe 2: Punkt 1 = 600, Punkt 2 = 720, Punkt 3 = 250, Punkt 4 = 410,

Aufgabe 3: Punkt 1 = 870, Punkt 2 = 1000, Punkt 3 = 590, Punkt 4 = 990,

Aufgabe 4: Punkt 1 = 600, Punkt 2 = 850, Punkt 3 = 310, Punkt 4 = 880,