

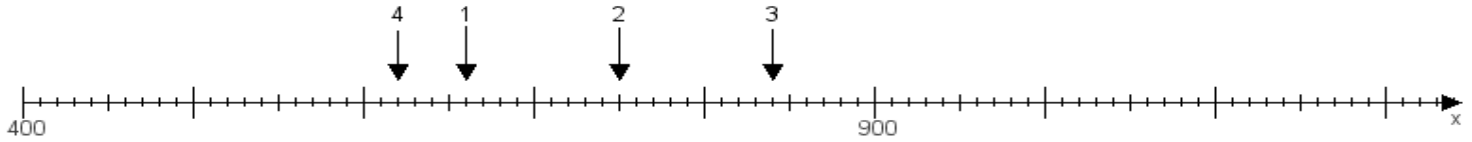
Name:

Klasse:

Datum:

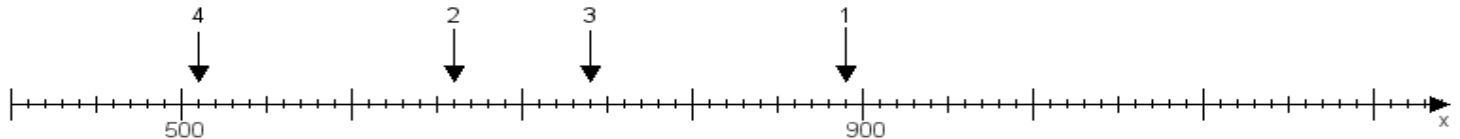
Aufgabe 1:

Ermittle die Werte von den Punkten 1 bis 4.



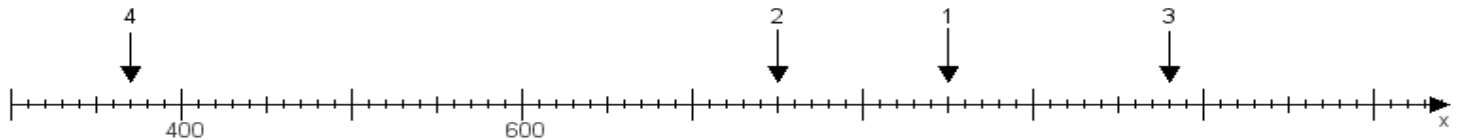
Aufgabe 2:

Ermittle die Werte von den Punkten 1 bis 4.



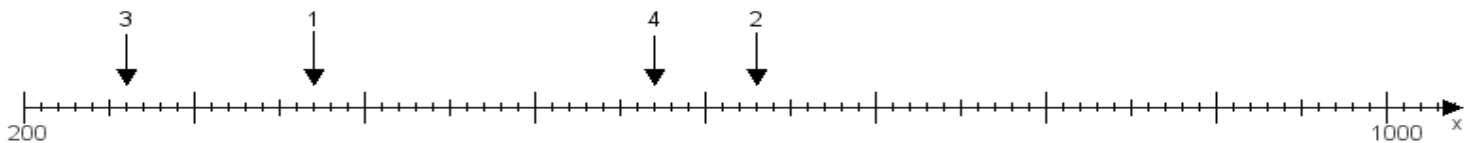
Aufgabe 3:

Ermittle die Werte von den Punkten 1 bis 4.



Aufgabe 4:

Ermittle die Werte von den Punkten 1 bis 4.



www.das-bastelteam.de -> Zahlenstrahl mit 4 Punkten. Blatt Nr.:267
Lösungen:

Aufgabe 1: Punkt 1 = 660, Punkt 2 = 750, Punkt 3 = 840, Punkt 4 = 620,

Aufgabe 2: Punkt 1 = 890, Punkt 2 = 660, Punkt 3 = 740, Punkt 4 = 510,

Aufgabe 3: Punkt 1 = 850, Punkt 2 = 750, Punkt 3 = 980, Punkt 4 = 370,

Aufgabe 4: Punkt 1 = 370, Punkt 2 = 630, Punkt 3 = 260, Punkt 4 = 570,