

Im Zahlenbereich bis max. 1000.

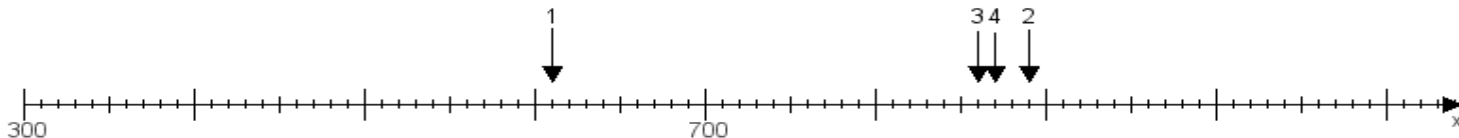
Name:

Klasse:

Datum:

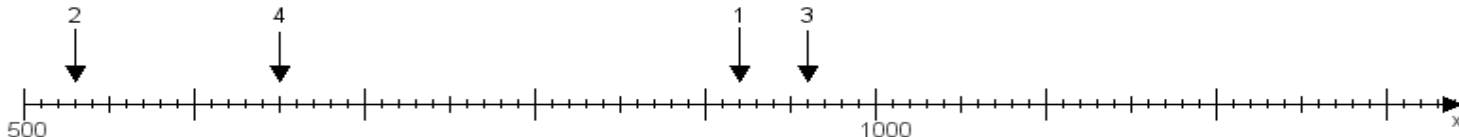
**Aufgabe 1:**

Ermittle die Werte von den Punkten 1 bis 4.



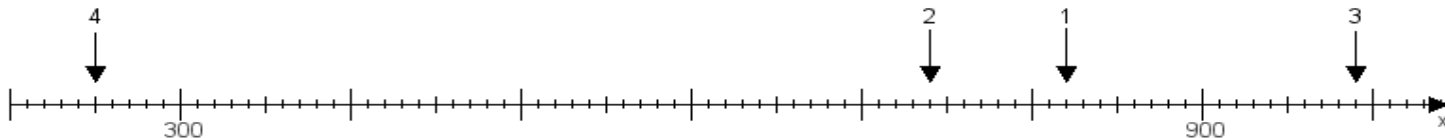
**Aufgabe 2:**

Ermittle die Werte von den Punkten 1 bis 4.



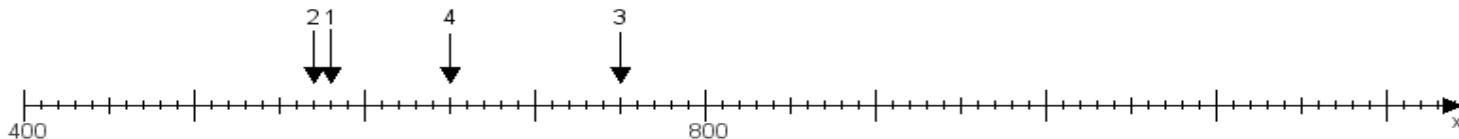
**Aufgabe 3:**

Ermittle die Werte von den Punkten 1 bis 4.



**Aufgabe 4:**

Ermittle die Werte von den Punkten 1 bis 4.



[www.das-bastelteam.de](http://www.das-bastelteam.de) -> Zahlenstrahl mit 4 Punkten. Blatt Nr.:266  
Lösungen:

Aufgabe 1: Punkt 1 = 610, Punkt 2 = 890, Punkt 3 = 860, Punkt 4 = 870,

Aufgabe 2: Punkt 1 = 920, Punkt 2 = 530, Punkt 3 = 960, Punkt 4 = 650,

Aufgabe 3: Punkt 1 = 820, Punkt 2 = 740, Punkt 3 = 990, Punkt 4 = 250,

Aufgabe 4: Punkt 1 = 580, Punkt 2 = 570, Punkt 3 = 750, Punkt 4 = 650,

[www.bin-dann-weg.de](http://www.bin-dann-weg.de) -> Ferienwohnungen und Ferienhäuser.

[www.kleinanzeigen-und-annoncen.de](http://www.kleinanzeigen-und-annoncen.de) -> Kostenlose Kleinanzeigen deutschlandweit.