

Im Zahlenbereich bis max. 1000.

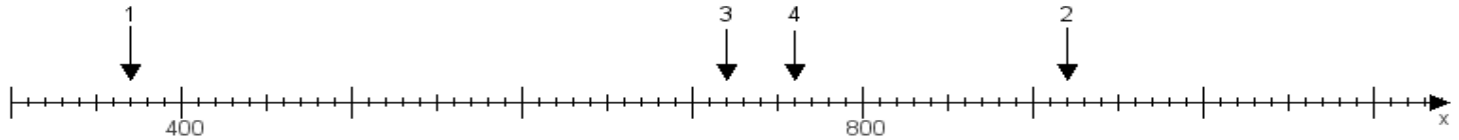
Name:

Klasse:

Datum:

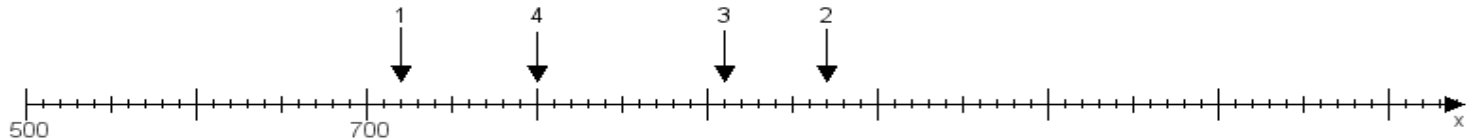
**Aufgabe 1:**

Ermittle die Werte von den Punkten 1 bis 4.



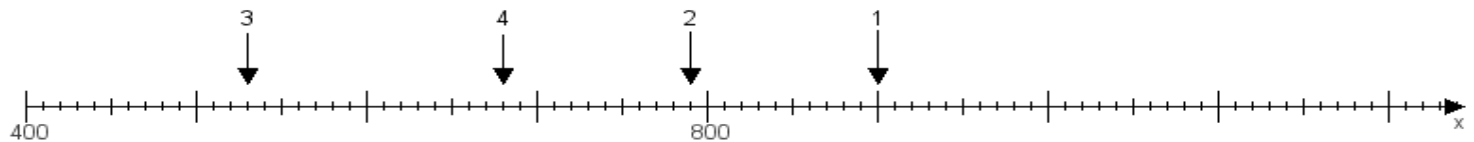
**Aufgabe 2:**

Ermittle die Werte von den Punkten 1 bis 4.



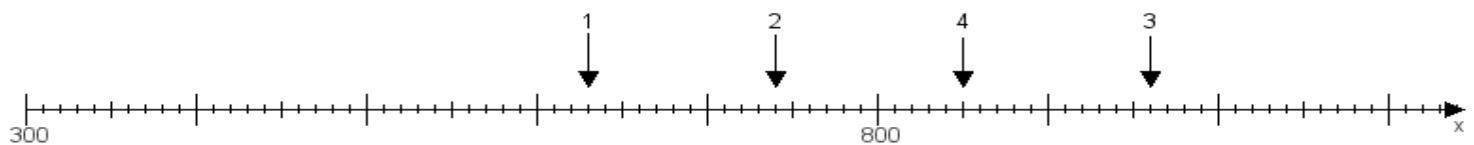
**Aufgabe 3:**

Ermittle die Werte von den Punkten 1 bis 4.



**Aufgabe 4:**

Ermittle die Werte von den Punkten 1 bis 4.



[www.das-bastelteam.de](http://www.das-bastelteam.de) -> Zahlenstrahl mit 4 Punkten. Blatt Nr.:265  
**Lösungen:**

Aufgabe 1: Punkt 1 = 370, Punkt 2 = 920, Punkt 3 = 720, Punkt 4 = 760,

Aufgabe 2: Punkt 1 = 720, Punkt 2 = 970, Punkt 3 = 910, Punkt 4 = 800,

Aufgabe 3: Punkt 1 = 900, Punkt 2 = 790, Punkt 3 = 530, Punkt 4 = 680,

Aufgabe 4: Punkt 1 = 630, Punkt 2 = 740, Punkt 3 = 960, Punkt 4 = 850,